

۱- گزینه ۴ پاسخ صحیح است.

گزینه (۱): یکای فرعی نیرو $\frac{\text{kg m}}{\text{s}}$ است که به افتخار نیوتن نام‌گذاری شده و در SI یکای نیرو نیوتن است.

گزینه (۲): هر یکای طول ابتدا به صورت کسری از فاصله استوا تا قطب شمال بوده و سپس به صورت دو خط حک شده دو سر میله از جنس پلاتین-ایریدیوم شده است، بنابراین این گزینه نادرست است.

گزینه (۳): یکای مقدار ماده، مول می‌باشد و نه جرم، اما در این گزینه از تعریف یکای جرم استفاده شده و نادرست است.

۲- گزینه ۳ پاسخ صحیح است.

۳- گزینه ۳ پاسخ صحیح است.

$$(۱) \text{ گزینه } ۵ \text{ km} = ۵ \text{ km} \times \frac{۱۰^۳ \text{ m}}{۱ \text{ km}} \times \frac{۱۰^۲ \text{ cm}}{۱ \text{ m}} = ۵ \times ۱۰^۵ \text{ cm}$$

$$(۲) \text{ گزینه } ۴۰ \text{ ms} = ۴۰ \text{ ms} \times \frac{۱ \text{ s}}{۱۰^۶ \text{ ms}} = ۴ \times ۱۰^{-۵} \text{ s}$$

$$(۳) \text{ گزینه } ۸۴ \text{ mg} = ۸۴ \text{ mg} \times \frac{۱ \text{ g}}{۱۰^۳ \text{ mg}} = ۸/۴ \times ۱۰^{-۲} \text{ g}$$

$$(۴) \text{ گزینه } ۲۸۰ \text{ cm}^۲ = ۲۸۰ \text{ cm}^۲ \times \frac{۱ \text{ m}^۲}{(۱۰^۲)^۲} = ۲۸۰ \times ۱۰^{-۴} \text{ m}^۲ = ۲/۸ \times ۱۰^{-۲} \text{ m}^۲$$

۴- گزینه ۱ پاسخ صحیح است. چون AB^2 و VB با هم جمع شده‌اند باید یکای آنها با هم یکسان و برابر متر باشد.

$$m = [v] [B] \Rightarrow [B] = \frac{m}{[V]} = \frac{m}{\frac{m}{s}} = s$$

$$m = [A] [B^2] \Rightarrow [A] = \frac{m}{[B]^2} \Rightarrow [A] = \frac{m}{s^2}$$

۵- گزینه ۲ پاسخ صحیح است. کمینه تقسیم‌بندی خط‌کش 0.5 cm است، پس خطای آن 0.25 cm بوده و اگر خطای آن را گرد کنیم، خطا 0.3 cm می‌شود، پس:

$$\text{عدد گزارش شده} = 2/7 \pm 0.3\text{ cm}$$

۶- گزینه ۲ پاسخ صحیح است. اختلاف عدد سوم و آخر گزارش شده از بقیه اندازه‌گیری‌ها زیاد بوده و در محاسبات حذف می‌شود، پس عدد گزارش شده برابر میانگین نتایج اندازه‌گیری‌ها است.

$$\frac{5/5 + 5/2 + 5/1 + 5/2}{4} = \frac{21/7}{4} = 5/425$$

چون دقت دستگاه ۱ kg است و دستگاه مدرج می‌باشد، پس خطا به صورت ۰/۵ kg می‌شود و عدد گزارش شده باید یک رقم بعد از اعشار داشته باشد یعنی عدد گزارش شده ۵/۴ kg می‌باشد.

۷- گزینه ۲ پاسخ صحیح است. ابتدا محاسبه می‌کنیم که ۲۴۰۰ سال برابر چند ثانیه است:

$$\text{سال } 2400 = \text{سال } 2400 \times \frac{365 \text{ روز}}{1 \text{ سال}} \times \frac{24 \text{ ساعت}}{1 \text{ روز}} \times \frac{60 \text{ دقیقه}}{1 \text{ ساعت}} \times \frac{60 \text{ ثانیه}}{1 \text{ دقیقه}}$$

$$= 2400 \times 365 \times 24 \times 60 \times 60$$

از آنجایی که هدف محاسبه مرتبه بزرگی عدد نهایی است، کافی است به جای هر عدد، مرتبه بزرگی آن را محاسبه کنیم:

$$\text{سال } 2400 = 1000 \times 1000 \times 10 \times 100 \times 100 = 10^{11} \text{ s}$$

که نزدیک‌ترین عدد به آن گزینه (۲) یعنی 10^{11} s است.

۱- گزینه ۴ پاسخ صحیح است. چگالی از ویژگی‌های ماده می‌باشد و با تغییر حجم، تغییر نمی‌کند.

۹- گزینه ۴ پاسخ صحیح است. حجم بخش توپر کره را محاسبه می‌کنیم:

$$\begin{aligned} \text{حجم بخش توپر} &= \text{حجم ظاهری} - \text{حجم حفره} = \frac{4}{3}\pi R^3 - \frac{4}{3}\pi r^3 \\ &= \frac{4}{3} \times \pi \times 10^3 - \frac{4}{3} \times \pi \times 5^3 = 4000 - 500 = 3500 \text{ cm}^3 = 3/5 \text{ lit} \end{aligned}$$

$$m = \rho V \Rightarrow m = 1 \times 3/5 = 2/5 \text{ kg}$$

۱۰- گزینه ۳ پاسخ صحیح است. ابتدا حجم آبی که جابه‌جا شده است را محاسبه می‌کنیم:

$$V_{\text{آب}} = A \times h = 10 \times 1/2 = 12 \text{ cm}^3$$

حجم آب جابه‌جا شده برابر حجم قطعه فلز است:

$$V_{\text{آب}} = V_{\text{فلز}} = 12 \text{ cm}^3$$

حالا می‌توانیم چگالی فلز را محاسبه کنیم:

$$\rho = \frac{m}{V} = \frac{90 \text{ g}}{12 \text{ cm}^3} = 7/5 \frac{\text{g}}{\text{cm}^3}$$

۱۱- گزینه ۴ پاسخ صحیح است. ابتدا حجم هریک را به دست می آوریم:

$$V_1 = \frac{m_1}{\rho_1} = \frac{400}{10} = 40 \text{ cm}^3$$

$$V_2 = \frac{m_2}{\rho_2} = \frac{300}{12} = 25 \text{ cm}^3 \Rightarrow V_1 + V_2 = 65 \text{ cm}^3$$

از حجم کل 15 cm^3 کاسته شده است، بنابراین:

$$V_{\text{مخلوط}} = 65 - 15 = 50 \text{ cm}^3$$

$$\rho = \frac{m}{V} = \frac{400 + 300}{50} = 14 \frac{\text{g}}{\text{cm}^3} = 14000 \frac{\text{kg}}{\text{m}^3}$$

۱۲- گزینه ۳ پاسخ صحیح است. قطر گلوله آلومینیومی ۲ برابر قطر گلوله مسی است، پس داریم:

$$R_{Al} = 2R_{Cu} \Rightarrow V_{Al} = 8V_{Cu}$$

از طرفی طبق رابطه $m = \rho V$ داریم:

$$\frac{m_{Al}}{m_{Cu}} = \frac{\rho_{Al} \cdot V_{Al}}{\rho_{Cu} \cdot V_{Cu}} = \frac{0.3}{8} \times 8 = 0.3$$

۱۳- گزینه ۳ پاسخ صحیح است. ابتدا جرم جسم را محاسبه می‌کنیم:

$$K_1 = \frac{1}{2}mv_1^2 \Rightarrow 4 = \frac{1}{2}m \times 4^2 \Rightarrow m = 0.5 \text{ kg}$$

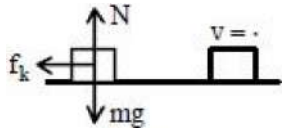
حالا می‌توانیم سرعت در حالت دوم را به دست آوریم:

$$K_2 = \frac{1}{2}mv_2^2 \Rightarrow 5 = \frac{1}{2} \times 0.5 \times v_2^2 \Rightarrow v_2 = \sqrt{20} = 2\sqrt{5} \frac{\text{m}}{\text{s}}$$

۱۴- گزینه ۲ پاسخ صحیح است. انرژی جنبشی در نقطه B، ۱۹٪ کاهش یافته، پس: $K_B = \frac{81}{100} K_A$

$$\cancel{m} v_B^2 = \frac{81}{100} \times \cancel{m} v_A^2 \Rightarrow v_B = \frac{9}{10} \times 20 = 18 \frac{\text{m}}{\text{s}}$$

در انرژی جنبشی v ، تندی بوده و به جهت آن بستگی ندارد.



گزینه ۱ پاسخ صحیح است.

هر دو جسم با شرایط یکسان پرتاب شده‌اند و روی سطح فقط نیروی اصطکاک به آن وارد می‌شود تا متوقف شوند و بنا به قضیه کار و انرژی جنبشی خواهیم داشت:

$$W_T = \Delta K \xrightarrow[\begin{matrix} W_N = \cdot \\ W_g = \cdot \end{matrix}]{\quad} W_f = \Delta K \xrightarrow{\Delta K_1 = \Delta K_2} W_{f_1} = W_{f_2}$$

پس کار نیروی اصطکاک در دو سطح یکسان است.

۱۶- گزینه ۴ پاسخ صحیح است. اگر تندی A و B را در حالت اول V بگیریم، داریم: $V_A = V_B$
بعد از کاهش سرعت B خواهیم داشت:

$$K_A = K'_B \Rightarrow \frac{1}{2}mv_A^2 = \frac{1}{2} \times 4m \times (v_A - 12/5)^2$$

$$\Rightarrow v_A^2 = 4(v_A - 12/5)^2 \Rightarrow v_A = 2(v_A - 12/5) \Rightarrow v_A = 2v_A - 25 \Rightarrow v_A = 25 \frac{m}{s}$$

۱۷- گزینه ۴ پاسخ صحیح است. انرژی کل تولید شده نیم لیتر بنزین برابر است با:

$$E_{\text{کل}} = 0.5 \times 3/2 \times 10^4 = 1/6 \times 10^4 \text{ kJ} = 1/6 \times 10^7 \text{ J}$$

تنها ۱۰ درصد از این انرژی به انرژی جنبشی تبدیل می‌شود:

$$K = \frac{10}{100} E_{\text{کل}} = \frac{1}{10} \times 1/6 \times 10^7 = 1/6 \times 10^6 \text{ J}$$

$$K = \frac{1}{2} mv^2 \Rightarrow 1/6 \times 10^6 = \frac{1}{2} \times 2000 \times v^2 \Rightarrow v^2 = 1600 \Rightarrow v = 40 \frac{\text{m}}{\text{s}}$$

۱۸- گزینه ۲ پاسخ صحیح است. با توجه به رابطه $W = Fd \cos \alpha$ ، کار نیروی اصطکاک و کار کل را محاسبه می‌کنیم:

$$W_t = (F_1 \cos 37^\circ + F_2 \cos 0^\circ + f_k \cos 180^\circ) d = (40 + 20 - 15) \times 10 = 450 \text{ J}$$

$$W_{fx} = f_x d \cos 180^\circ = 15 \times 10 \times (-1) = -150 \text{ J}$$

$$\frac{W_{fx}}{W_t} = \frac{-150}{450} = -\frac{1}{3}$$

۱۹- گزینه ۱ پاسخ صحیح است. چون جسم با تندی ثابت در حال حرکت است، پس $F_{\text{کل}} = ma = 0$ می باشد.

$$F - mg = 0 \Rightarrow F = mg = 40 \text{ N}$$

جابه‌جایی در دو ثانیه برابر است با $d = v\Delta t = 2 \times 2 = 4 \text{ m}$ و چون حرکت رو به پایین است، زاویه بین راستای نیرو و جابه‌جایی 180° می باشد:

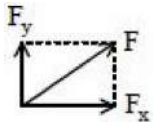
$$W_F = Fd \cos 180^\circ = 40 \times 4 \times -1 = -160 \text{ J}$$

۲۰- گزینه ۲ پاسخ صحیح است. با استفاده از قضیه فیثاغورس نیروی F_x را به دست می آوریم:

$$F^2 = F_x^2 + F_y^2 \Rightarrow 100 = F_x^2 + 6^2$$

$$\Rightarrow F_x^2 = 64 \Rightarrow F_x = 8 \text{ N}$$

$$W_{F_x} = F_x d = 8 \times 8 = 64 \text{ J}$$



۲۱- گزینه ۴ پاسخ صحیح است. با استفاده از قضیه کار و انرژی، کار کل (مجموع کار F_1 و F_2 را به دست می آوریم):

$$W_t = \Delta K \Rightarrow W_{F_1} + W_{F_2} = \frac{1}{2} m (v_2^2 - v_1^2)$$

$$\Rightarrow 30 + W_{F_2} = \frac{1}{2} \times 2 \times (5^2 - (\sqrt{13})^2) \Rightarrow 30 + W_{F_2} = 12 \Rightarrow W_{F_2} = -18 \text{ J}$$

۲۲- گزینه ۱ پاسخ صحیح است. با توجه به تندی و انرژی جنبشی در نقطه پرتاب داریم:

$$K = \frac{1}{2}mv^2 \Rightarrow 5 = \frac{1}{2}m \times 25 \Rightarrow m = \frac{10}{25} = 0.4 \text{ kg}$$

حال با توجه به قضیه کار و انرژی جنبشی داریم:

$$W_{mg} + W_f = \Delta K \Rightarrow 48 - 45/8 = \frac{1}{2} \times 0.4 \times (v^2 - 25)$$

$$\Rightarrow 2/2 = 0.2(v^2 - 25) \Rightarrow 11 = v^2 - 25 \Rightarrow v^2 = 36 \Rightarrow v = 6 \frac{\text{m}}{\text{s}}$$

۲۳- گزینه ۲ پاسخ صحیح است. جسم رو به پایین حرکت کرده و کار نیروی وزن برابر $W_{mg} = mgh$ است:

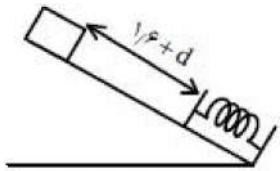
$$\begin{cases} h_A = 4\text{ m} \\ h_B = 2\text{ m} \end{cases} \Rightarrow W_{mg} = mg(h_A - h_B) = 0.5 \times 10 \times 2 = 10\text{ J}$$

۲۴- گزینه ۲ پاسخ صحیح است. اگر فشردگی فنر را d فرض کنیم، طبق قضیه کار و انرژی جنبشی داریم:

$$W_{mg} + W_{\text{فنر}} = 0 \Rightarrow mg\left(\frac{1}{6} + d\right) \sin 30^\circ = 2$$

$$\Rightarrow 0.2 \times 10 \left(\frac{1}{6} + d\right) \times \frac{1}{2} = 2$$

$$\Rightarrow d = 0.4 \Rightarrow d = 4 \text{ cm}$$



۲۵- گزینه ۴ پاسخ صحیح است. دستگاه اندازه‌گیری (دماسنج) مدرج بود و با کمینه اندازه‌گیری 5°C می‌باشد، پس خطای

این دستگاه برابر است با: $2/5^{\circ}\text{C} = \frac{5}{2}$ و داریم: $55 \pm 2/5^{\circ}\text{C}$ ، که برای این که عدد گزارش شده و خطا از نظر

فیزیکی مشکلی نداشته باشند باید خطا را گرد کرد: $55 \pm 3^{\circ}\text{C}$.

۲۶- گزینه ۲ پاسخ صحیح است. با توجه به جرم و چگالی آلیاژ داده شده، حجم آن را به دست می آوریم:

$$\rho_{\text{کل}} = \frac{m_1 + m_2}{V} \Rightarrow V = \frac{360}{V/2} = 50 \text{ cm}^3$$

با توجه به یکسان بودن جرم هر دو ماده:

$$m_1 = m_2 \Rightarrow \rho_1 V_1 = \rho_2 V_2 \Rightarrow V_1 = 2V_2$$

$$m_1 + m_2 = 360 \Rightarrow 4V_1 + 8V_2 = 360 \Rightarrow 16V_2 = 360$$

$$\Rightarrow V_2 = 22/5, V_1 = 45 \Rightarrow V_1 + V_2 = 45 + 22/5 = 67/5$$

$$V = V_1 + V_2 - V_{\text{کاسته شده}} = 50 \Rightarrow V_{\text{کاسته شده}} = 17/5 \text{ cm}^3$$

۲۷- گزینه ۲ پاسخ صحیح است. نیروهای وارد بر جسم، نیروی وزن و نیروی مقاومت هوا می‌باشند. چون جسم به محل اولیه خود برگشته پس کار نیروی وزن صفر است، بنابراین کار نیروی مقاومت هوا برابر تغییرات انرژی جنبشی جسم است.

$$W = \Delta K = K_2 - K_1$$

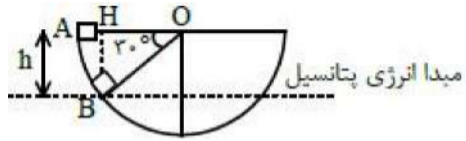
$$W = \frac{1}{2}mV_2^2 - \frac{1}{2}mV_1^2 = \frac{1}{2} \times 2 (4^2 - 5^2) = -9J$$

لذا اتلاف انرژی یا کار مقاومت هوا صرف نظر از علامت آن ۹ ژول است.

۲۸- گزینه ۲ پاسخ صحیح است. با استفاده از قضیه کار و انرژی جنبشی داریم:

$$W_T = \Delta K \Rightarrow \left\{ \begin{array}{l} \text{جسم ۱: } W_f = \Delta K \\ \Rightarrow f \times x \times \cos 180^\circ = \frac{1}{2} m (v_1^2 - v_2^2) \Rightarrow x = \frac{mv_2^2}{f} \\ \text{جسم ۲: } W_f = \Delta K \\ \Rightarrow 2f \times X \times \cos 180^\circ = \frac{1}{2} (2m) (v_1^2 - v_2^2) \Rightarrow X = \frac{mv_2^2}{f} \end{array} \right.$$

بنابراین: $x = X$



۲۹- گزینه ۲ پاسخ صحیح است. می‌دانیم کار نیروی وزن در جابه‌جایی از نقطه A به نقطه B، با علامت منفی برابر تفاوت انرژی پتانسیل گرانشی این دو نقطه است. با توجه به مبدأ انرژی پتانسیل گرانشی که انتخاب کرده‌ایم، داریم:

$$U_B = \cdot J, U_A = mgh, h = BH = R \sin 30^\circ = \frac{1}{2}R \Rightarrow U_A = \frac{1}{2}mgR$$

$$W_{mg} = -\Delta U = -(U_B - U_A) = U_A - U_B \Rightarrow W_{mg} = \frac{1}{2}mgR$$

۳۰- گزینه ۲ پاسخ صحیح است. قانون پایستگی را در هر دو حالت می نویسیم:

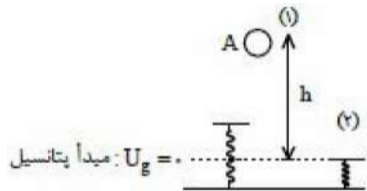
$$E_1 = E_2 \Rightarrow mgh = \left(\frac{1}{2}mv^2 + U_{\text{فنر}} \right)$$

$$\Rightarrow mgh = 2 \left(\frac{1}{2}mv^2 \right) \Rightarrow 10 \times h = 2/25$$

$$\Rightarrow h = 0.225 \text{ m} = 22/5 \text{ cm}$$

فاصله از سطح زمین برابر است با:

$$30 - 22/5 = 7/5 \text{ cm}$$



۳۱- گزینه ۱ پاسخ صحیح است. چون یک وزنه ۱۰ کیلوگرمی دو متر پایین رفته و وزنه دیگر روی سطح افقی حرکت کرده است:

$$\Delta U = -10 \times 10 \times 2 = -200 \text{ J}$$

$$\Delta K = \frac{1}{2} m V^2 - 0 = \frac{1}{2} \times 20 \times 9 = 90 \text{ J}$$

$$\Delta E = \Delta U + \Delta K = -110 \text{ J}$$

۳۲- گزینه ۳ پاسخ صحیح است. با توجه به رابطه‌ی توان داریم:

$$P = \frac{W_{\text{کل}}}{\Delta t} = \frac{\Delta K}{\Delta t} = \frac{\frac{1}{2} \times m (v_2^2 - v_1^2)}{\Delta t} = \frac{\frac{1}{2} \times 1000 \times (16 - 4)}{2} = 125 \times 12 \text{ W}$$

هر اسب بخار تقریباً معادل 750 W می‌باشد، پس:

$$125 \times 12 \text{ W} \times \frac{1 \text{ hp}}{750 \text{ W}} = 2 \text{ hp}$$

۳۳- گزینه ۲ پاسخ صحیح است.

$$W_f = E_B - E_A = mgh_B - mgh_A = 4 \times 2/8 - 4 \times 4 = 1/2 - 16 = -4/8 J$$

۳۴- گزینه ۴ پاسخ صحیح است. توان مصرفی عبارت است از نسبت کار نیروی محرک (انرژی ورودی) بر مدت زمان انجام کار یعنی:

$$P = \frac{W}{t} = \frac{F \cdot x}{t} = F \cdot \left(\frac{x}{t}\right) = F \cdot v$$

که در آن v سرعت حرکت کامیون است، پس:

$$P = F \cdot v = ۱۲ \times ۱۰^۳ = F \times ۲۰ \Rightarrow F = ۶۰۰ \text{ N}$$

که در آن F نیروی محرک کامیون است. از آنجا که کامیون با سرعت ثابت حرکت می‌کند، پس برآیند نیروهای وارد بر آن صفر است یعنی برآیند نیروهای مقاوم برابر است با نیروی محرک یعنی برآیند نیروهای مقاوم ۶۰۰ نیوتن است.

۳۵- گزینه ۲ پاسخ صحیح است.

$$P_A = \frac{E}{t} = \frac{2.}{1} = 2. \frac{\text{kJ}}{\text{h}}, P_B = \frac{E}{t} = \frac{4.}{1} = 4. \frac{\text{kJ}}{\text{h}} \Rightarrow P_A < P_B$$

$$Ra_A = \frac{10}{2.} = 5/\text{h}, Ra_B = \frac{20}{4.} = 5/\text{h} \Rightarrow Ra_A > Ra_B$$

۳۶- گزینه ۲ پاسخ صحیح است. در فاصله‌های بسیار کوتاه، نیروی مولکولی رانشی است و در فاصله‌های بیشتر، این نیرو ربایشی است.

۳۷- گزینه ۲ پاسخ صحیح است. علت تراکم پذیری گازها نسبت به مایع‌ها آن است که مولکول‌ها آزادانه در حرکت هستند و فاصله بین آنها نسبت به حالت مایع چند ده برابر است.

۳۸- گزینه ۲ پاسخ صحیح است. آب در لوله موئین بالا رفته و به سطحی می‌رسد که بالاتر از سطح آب در بیرون لوله است. هر قدر لوله باریک‌تر باشد، اختلاف سطح آب در لوله و در ظرف بیش‌تر است. این پدیده را می‌توان چنین توجیه کرد که وزن آن مقدار آب که بالاتر از سطح آب در بیرون لوله با دگرچسبی آب با اطراف لوله خنثی می‌شود.

۳۹- گزینه ۱ پاسخ صحیح است. نیروی وارد بر کف ظرف معادل وزن مایع داخل آن است و چون در هر سه ظرف، مقدار مساوی از مایع ریخته‌ایم، پس نیروی وارد بر کف هر سه ظرف، مقداری مساوی است.

۴۰- گزینه ۳ پاسخ صحیح است.

$$P = P_0 + \rho gh$$

$$\Rightarrow 1/78 \times 10^5 = P_0 + 13600 \times 1 \times \frac{1}{2} = P_0 + 6800 \times 10^5 \Rightarrow P_0 = 1/1 \times 10^5 \text{ Pa}$$

۴۱- گزینه ۱ پاسخ صحیح است. اگر سطح مقطع کوچک را با a و سطح قاعدهٔ بزرگ را با A نشان دهیم، خواهیم داشت:

$$\frac{mg}{a} = \frac{F}{A} \Rightarrow mg = F \times \frac{a}{A} \Rightarrow m \times 10 = 8 \times \frac{2}{200} \Rightarrow m = \frac{8}{1000} \text{ Kg} = 8 \text{ gr}$$

۴۲- گزینه ۱ پاسخ صحیح است.

$$P = \rho gh + P_0$$

$$\Rightarrow 1/5 \times 10^5 = 1000 \times 1 \cdot h + 10^5 \Rightarrow 5 \times 10^4 = 10^4 h \Rightarrow h = 5 \text{ m}$$

۴۳- گزینه ۲ پاسخ صحیح است. فشار حاصل از وزن مایع در کف ظرف برابر است با:

$$P = \rho gh = 2 \times g \times 2/72 \times 10^3 = 2 \times 2720 \text{ g}$$

این فشار بر حسب سانتی متر جیوه برابر ارتفاع ستون جیوه در این فشار است:

$$P = \rho_{\text{Hg}} \cdot g \cdot h_{\text{Hg}} \Rightarrow h_{\text{Hg}} = \frac{P}{(\rho_{\text{Hg}} \cdot g)} = \frac{(2 \times 2720 \text{ g})}{(13/6 \text{ g} \times 10^3)} = 0.4 \text{ m} = 40 \text{ cm}$$

فشار کل در کف ظرف برابر فشار هوا به علاوه فشار حاصل از وزن مایع است:

$$P_{\text{کل}} = 40 + P_1 = 40 + 76 = 116 \text{ cmHg}$$

گزینه ۳ پاسخ صحیح است. بر مایع سه نیروی (\vec{W}) ، نیروی وارد از طرف کف ظرف (\vec{N}) و نیروی وارد از طرف بدنهٔ جانبی ظرف (\vec{F}) وارد می‌شود. چون مایع در حال تعادل است، برآیند این نیروها برابر با صفر است و بنابراین داریم:

$$\vec{W} + \vec{N} + \vec{F} = 0 \Rightarrow \vec{F} = -(\vec{W} + \vec{N}) \Rightarrow F = |\vec{W} + \vec{N}| \quad (I)$$

نیروی وزن به طرف پایین به مایع وارد می‌شود و اندازهٔ آن برابر است با:

$$W = mg = \rho Vg = 10^3 \times 2/5 \times 10^{-3} \times 10 \Rightarrow W = 25N$$

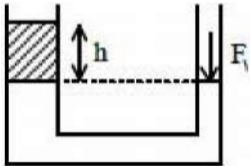
نیروی کف ظرف بر مایع وارد می‌کند به طرف بالا است و اندازهٔ آن برابر با اندازهٔ نیرویی است که مایع بر کف ظرف وارد می‌کند، بنابراین می‌توان نوشت:

$$N = PA = \rho ghA \Rightarrow N = 10^3 \times 10 \times 50 \times 10^{-2} \times 40 \times 10^{-4} \Rightarrow N = 20N$$

چون دو نیروی \vec{W} و \vec{N} در خلاف جهت هم هستند، برآیند آن‌ها به سمت نیروی بزرگ‌تر یعنی به سمت پایین می‌باشد و اندازهٔ آن برابر است با:

$$|\vec{W} + \vec{N}| = W - N = 25 - 20 = 5N$$

۴۵- گزینه ۱ پاسخ صحیح است. باید فشار حاصل از پیستون و فشار حاصل از مایع جدید برابر شود تا جیوه در دو طرف هم‌تراز شود.



$$pgh = \frac{F_1}{A_1} \Rightarrow 4000 \times 10 \times h = \frac{20}{100 \times 10^{-4}}$$

$$\Rightarrow 400 \cdot h = 20 \Rightarrow h = \frac{1}{20} \text{ m} = 5 \text{ cm}$$

$$V = A \cdot h = 300 \times 5 = 1500 \text{ cm}^3$$

$$A_1 V_1 = A_2 V_2$$

$$A_1 = \frac{A_2 V_2}{V_1}$$

$$V'_2 = V_2 + \frac{1}{\epsilon} V_2$$



$$\Rightarrow A'_1 = \frac{5}{\epsilon} A_1 \Rightarrow r'_1 = \frac{\sqrt{5}}{\epsilon} r_1$$

۴۶- گزینه ۱ پاسخ صحیح است.

۴۷- گزینه ۱ پاسخ صحیح است. وقتی سنگ وارد مایع می‌شود، از طرف ظرف مایع (آب) بر سنگ، نیروی ارشمیدس رو به بالا وارد می‌شود. طبق قانون عمل و عکس‌العمل نیز همان مقدار نیرو بر آب رو به پایین وارد می‌کند، بنابراین مایع (آب) دارای وزن بیشتری خواهد شد و باید به طرف دیگر ترازو وزنه اضافه کنیم، ولی چون چگالی آب کم‌تر از سنگ است، وزن وزنه‌ها باید کم‌تر از وزن سنگ باشد.

گزینه ۳ پاسخ صحیح است. کمیت A انرژی می‌باشد و یکای SI آن ژول و یکای فرعی آن $\frac{\text{kgm}^2}{\text{s}^2}$ می‌باشد و یکای

C برابر متر است، بنابراین:

$$A = BC^2 \Rightarrow B = \frac{A}{C^2} \Rightarrow [B] = \frac{\frac{\text{kgm}^2}{\text{s}^2}}{\text{m}^2} = \frac{\text{kg}}{\text{s}^2}$$

۴۹- گزینه ۴ پاسخ صحیح است. ابتدا آهنگ آب شدن را با استفاده از رابطه زیر به دست می آوریم:

$$\text{آهنگ آب شدن شمع: } \frac{\text{طول شمع}}{\text{مدت زمان آب شدن}} = \frac{18 \text{ cm}}{2 \text{ h}} = 9 \frac{\text{cm}}{\text{h}}$$

حال با تبدیل واحد زیر، یکا را به $\frac{\mu\text{m}}{\text{ms}}$ تبدیل می کنیم:

$$9 \frac{\text{cm}}{\text{h}} \times \frac{1 \text{ m}}{10^{+2} \text{ cm}} \times \frac{10^{+6} \mu\text{m}}{1 \text{ m}} \times \frac{1 \text{ h}}{3600 \text{ s}} \times \frac{1 \text{ s}}{10^3 \text{ ms}} = \frac{10 \mu\text{m}}{400 \text{ ms}} = \frac{1}{4} \times 10^{-1}$$

$$= 0.25 \times 10^{-1} = 2/5 \times 10^{-2} \frac{\mu\text{m}}{\text{ms}}$$

دقت کنید که در نماد علمی، عدد به صورت ضرب $a \times 10^n$ که در آن $1 \leq a < 10$ و n یک عدد صحیح است.

۵۰- گزینه ۳ پاسخ صحیح است. با روش تبدیلات زنجیره‌ای:

$$8 \times 10^8 \frac{\text{mg}}{\text{m}(\text{ms})^2} \times \frac{1\text{g}}{10^3\text{mg}} \times \frac{1\text{kg}}{10^3\text{g}} \times \left(\frac{10^3\text{ms}}{1\text{s}} \right)^2 = 8 \times 10^8 \frac{\text{kg}}{\text{m} \times \text{s}^2} = 8 \times 10^8 \text{Pa}$$

اما چرا $\frac{\text{kg}}{\text{m} \times \text{s}^2}$ برابر پاسکال است؟ اگر صورت و مخرج را در یکای m ضرب کنیم خواهیم داشت $\frac{\text{kg} \frac{\text{m}}{\text{s}^2}}{\text{m}}$ ،

$$\frac{\text{kg}}{\text{ms}^2} = \frac{\text{N}}{\text{m}^2} = \text{Pa}$$

یکای شتاب و $\text{kg} \frac{\text{m}}{\text{s}^2}$ یکای نیرو است، بنابراین:

۵۱- گزینه ۲ پاسخ صحیح است. تصویر به مهارت شخص آزمایشگر مربوط می‌شود که شخص باید عمود به وسیله نگاه کند تا اندازه‌گیری دقیق باشد. اگر شخص در وضعیت A نگاه کند، عدد بیش‌تری و اگر در وضعیت C نگاه کند، عدد کم‌تری گزارش می‌شود، پس رضا که بیش‌ترین عدد را گزارش کرده، در وضعیت A و علی که کم‌ترین عدد را گزارش کرده، در وضع C بوده و امیر در وضعیت B قرار دارد.

۵۲- گزینه ۲ پاسخ صحیح است. بین هر دو دما به ۱۰ قسمت تقسیم شده، بنابراین کمینه درجه بندی دماسنج مدرج ۰/۱ می باشد، پس خطای این وسیله برابر است با:

$$\frac{0/1}{2} = 0/05$$

در وسایل رقمی خطا یک واحد از اولین رقم سمت راست می باشد، پس خطای دماسنج رقمی برابر ۰/۰۱ بوده که همان دقت دستگاه می باشد، بنابراین:

$$\frac{0/05}{0/01} = 5$$

گزینه ۱ پاسخ صحیح است. اگر با آجرها با مساحت سطح $cm^2 (15 \times 15)$ بچینیم، تعداد آجرهای مصرف شده برای سطح مقاطع ستون برابر است با:

$$\frac{9 \times (1.2)^2}{15 \times 15} = \frac{1.08}{1.5} = 0.72$$

حال با آجرهایی به ارتفاع ۵cm باید ستونی به ارتفاع ۱۲m بسازیم، پس تعداد آجرها می‌شود:

$$\frac{12 \times 1.2^2}{5} = 3.456$$

$$0.72 \times 3.456 = 2.48432$$

بنابراین تعداد کل آجرها برابر است با:
 حال وزن کل ستون را به دست می‌آوریم:

$$2.48432 \times 10^3 \text{ kg} \approx 2.48 \text{ Ton}$$

حال اگر آجرها را با مساحت $cm^2 (5 \times 15)$ بچینیم، تعداد آجرهای مصرف شده برای سطح مقاطع برابر است با:

$$\frac{9 \times (1.2)^2}{5 \times 15} \approx \frac{1.08}{0.75} \approx 1.44$$

در این حالت ارتفاع آجرها ۱۵cm می‌باشد که باید مجموع ارتفاع آن‌ها ۱۲m شود، بنابراین تعداد این آجر برای رسیدن به این ارتفاع برابر است با:

$$\frac{12 \times 1.2^2}{15} \approx \frac{1.728}{1.5} \approx 1.152$$

$$1.44 \times 1.152 = 1.65888$$

پس تعداد کل آجرهای مصرفی برابر است با:

$$1.65888 \times 2310 \text{ kg} = 38310.144 \text{ kg} = 38.31 \text{ Ton}$$

بنابراین وزن ستون برابر است با:

۵۴- گزینه ۲ پاسخ صحیح است. ابتدا با توجه به جرم و چگالی آب داده شده، حجم آب که همان حجم ظرف است را به دست می آوریم:

$$\rho_{\text{آب}} = \frac{m_{\text{آب}}}{V_{\text{آب}}} \Rightarrow 1000 = \frac{2000 \times 10^{-3}}{V} \Rightarrow V_{\text{آب}} = 2 \times 10^{-3} \text{ m}^3$$

حداکثر روغن یعنی حجم کل ظرف را روغن پر کند، بنابراین:

$$V_{\text{روغن}} = 2 \times 10^{-3} \text{ m}^3$$

حال با توجه به چگالی روغن، جرم را به دست می آوریم:

$$\rho = \frac{m}{V} \Rightarrow m_{\text{روغن}} = \rho_{\text{روغن}} V = 0.8 \times 10^3 \times 2 \times 10^{-3} = 1.6 \text{ kg}$$

۵۵- گزینه ۱ پاسخ صحیح است. ابتدا حجم فلز این کره را به دست می آوریم:

$$V = \frac{4}{3}\pi r^3 \text{ خارجی} - \frac{4}{3}\pi r^3 \text{ داخلی} \Rightarrow V = \frac{4}{3} \times \pi \times (64 - 27) \Rightarrow V = 4 \times 37 \text{ cm}^3$$

جرم خواهد شد.

$$m = \rho V = 5 \times 4 \times 37 \Rightarrow m = 740 \text{ g} = 0.74 \text{ kg}$$

گزینه ۳ پاسخ صحیح است. انرژی جنبشی در ابتدا برابر $K_1 = \frac{1}{2}mv^2$ است. با برداشتن وزنه m_1 از روی m_2

جرم $\frac{4}{5}$ حالت قبل می‌شود و اگر جرم در حالت اول را m بگیریم، در این حالت $\frac{4}{5}m$ می‌شود.

$$K_2 = \frac{1}{2} \times \frac{80}{100} \times m \left(\frac{120}{100} v \right)^2 = \frac{1}{2} \times \frac{4}{5} m \times \frac{144}{100} v^2 \Rightarrow K_2 = \frac{1}{2} \times \frac{576}{500} mv^2$$

$$\Rightarrow \Delta K = K_2 - K_1 = \frac{576}{500} \times \frac{1}{2} m \times v^2 - \frac{1}{2} mv^2 = \frac{76}{500} \left(\frac{1}{2} mv^2 \right) \Rightarrow \Delta K = \frac{15/2}{100} \times \frac{1}{2} \times mv^2$$

بنابراین انرژی جنبشی $15/2$ درصد افزایش می‌یابد.

۵۷- گزینه ۲ پاسخ صحیح است. انرژی جنبشی در دو حالت را به دست می آوریم:

$$K_1 = \frac{1}{2}mv_1^2 = \frac{1}{2}m(10)^2 = 50 \text{ m}$$

$$K_2 = \frac{1}{2}mv_2^2 = \frac{1}{2}m(8)^2 = 32 \text{ m}$$

حال درصد تغییرات را به دست می آوریم:

$$\frac{\Delta K}{K_1} \times 100 = \frac{-18 \text{ m}}{50 \text{ m}} \times 100 = -36\%$$

۵۸- گزینه ۳ پاسخ صحیح است. در مدت زمانی که متحرک A، d متر را می‌پیماید، متحرک B، ۴d طی کرده، پس تندی متحرک B، ۴ برابر متحرک A می‌باشد، بنابراین:

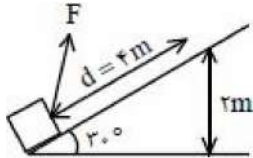
$$v_B = 4v_A$$

$$K_B = \frac{1}{2}mv_B^2 = \frac{1}{2}m \times 16v_A^2 = 8mv_A^2$$

$$K_A = \frac{1}{2}mv_A^2$$

$$\left. \begin{array}{l} K_B = 8mv_A^2 \\ K_A = \frac{1}{2}mv_A^2 \end{array} \right\} \Rightarrow \frac{K_B}{K_A} = \frac{8mv_A^2}{\frac{1}{2}mv_A^2} = 16 \Rightarrow K_B = 16K_A$$

۵۹- گزینه ۲ پاسخ صحیح است. جسم روی سطح به اندازه ۴ m جابه‌جا می‌شود و کار نیروی F خواهد شد.



$$W_F = Fd \cos \theta \Rightarrow W_F = 10 \times 4 \times \frac{\sqrt{2}}{2} = 30\sqrt{2}\text{ J}$$

۶۰- گزینه ۴ پاسخ صحیح است. با توجه به اندازه‌های نیرو و جابه‌جایی و زاویه^۱ بین نیرو و جابه‌جایی، کار نیروها را به دست می‌آوریم.

$$W_{F_1} = F_1 d \cos \theta_1 = 10 \times 2 \times \cos 37^\circ = 16 \text{ J}$$

$$W_{F_2} = F_2 d \cos \theta_2 = 20 \times 2 \times \cos 53^\circ = 24 \text{ J}$$

$$W_{F_3} = F_3 d \cos \theta_3 = 10 \times 2 \times \cos(67^\circ + 16^\circ + 37^\circ) = -20 \times \frac{1}{2} = -10 \text{ J}$$

کار کل برابر است با مجموع کار تک‌تک نیروها پس:

$$W_T = W_{F_1} + W_{F_2} + W_{F_3} = 16 + 24 - 10 = 30 \text{ J}$$

۶۱- گزینه ۲ پاسخ صحیح است. با توجه به رابطه کار داریم:

برای خودروها نیروی وارده F و جابه‌جایی d با هم برابر است، پس:

$$W = Fd \cos \theta$$

$$W_1 = Fd \cos \theta_1 \quad W_2 = Fd \cos \theta_2$$

و می‌دانیم هرچه θ کوچک‌تر باشد، $\cos \theta$ بزرگ‌تر می‌شود، پس: $W_2 > W_1$.

$$W_2 > W_1 \Rightarrow \Delta K_2 > \Delta K_1$$

با استفاده از قضیه کار و انرژی جنبشی داریم:

سرعت اولیه هر دو متحرک صفر می‌باشد، پس:

$$K_2 = \cdot \Rightarrow \frac{1}{2}mv_2^2 > \frac{1}{2}mv_1^2 \Rightarrow v_2^2 > v_1^2 \Rightarrow v_2 > v_1$$

۶۲- گزینه ۴ پاسخ صحیح است. اگر جسم از حال سکون به حرکت درآید، در هر بازه‌ای که می‌گذرد، سرعت آن افزایش می‌یابد و در هر بازه نسبت به بازه قبل، مسیر طولانی‌تری را طی می‌کند (d بزرگ‌تر می‌شود) و کار نیروی F افزایش می‌یابد.

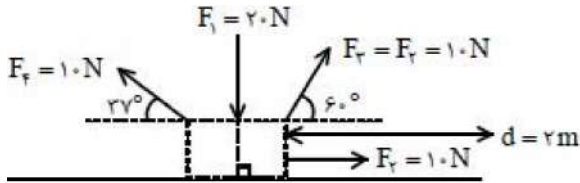
اگر جسم از ابتدا در جهت نیروی F دارای سرعت باشد، به دلیل افزایش سرعت کار نیروی F در بازه‌های متوالی افزایش می‌یابد، بنابراین گزینه (۱) درست است.

اگر جسم دارای سرعت اولیه رو به سمت چپ باشد، نیروی F که باعث کاهش سرعت آن می‌شود و در بازه‌های متوالی کار نیروی F به دلیل کاهش جابه‌جایی کم‌تر می‌شود تا جسم متوقف شود، بنابراین گزینه (۲) درست است.

اگر نیرو پس از توقف جسم هم‌چنان به جسم وارد شود، جسم که ابتدا دارای حرکت کندشونده بود، دارای حرکت تندشونده می‌شود و کار نیروی F در بازه‌های زمانی t افزایش می‌یابد یعنی ابتدا کاهش و سپس افزایش می‌یابد.

۶۳- گزینه ۳ پاسخ صحیح است. کار یک نیروی ثابت از رابطه $W = Fd \cos \theta$ به دست می آید که θ زاویه بین نیرو و جابه جایی می باشد.

الف) کار نیروی F_3 و F_2 را محاسبه می کنیم.



$$W_{F_2} = F_2 d \cos \theta \xrightarrow{\theta = 0} W_{F_2} = 20 \text{ J}$$

$$W_{F_3} = F_3 d \cos \theta \xrightarrow{\theta = 60^\circ} W_{F_3} = 10 \text{ J}$$

بنابراین این گزاره درست می باشد.

ب) نیروی F_1 بر مسیر حرکت عمود می باشد، پس $\theta = 90^\circ$ و $\cos 90^\circ = 0$ می شود، پس $W_{F_1} = 0$ است و این گزاره درست است.

پ) کار نیروی F_4 را به دست آورده و کارها را با هم جمع می کنیم:

$$W_{F_4} = 10 \times 2 \times \cos 143^\circ \Rightarrow W_{F_4} = 10 \times 2 \times \cos(180^\circ - 37^\circ) = -16 \text{ J}$$

$$W_{F_1} + W_{F_2} + W_{F_3} + W_{F_4} = 20 + 10 - 16 = 30 - 16 = 14 \text{ J}$$

بنابراین کار کل برابر 54 J نمی باشد و این گزاره نادرست است. در نتیجه دو گزاره درست است و گزینه (۳) پاسخ است.

۶۴- گزینه ۴ پاسخ صحیح است. اگر هواپیما در حال توقف (ترمز گرفتن) باشد یعنی $v_1 > v_2$ باشد، $\Delta K < 0$ بوده و $W_{\text{کل}} = \Delta K$ ، پس $W_{\text{کل}} < 0$ می شود.

$$W_{\text{کل}} < 0 \Rightarrow W_F - W_f < 0 \Rightarrow W_F < W_f$$

اگر تندی هواپیما ثابت باشد $v_1 = v_2$ است و $\Delta K = 0$ بوده و $W_{\text{کل}} = 0$ می شود.

$$W_{\text{کل}} = 0 \Rightarrow W_F - W_f = 0 \Rightarrow W_F = W_f$$

اگر تندی هواپیما در حال افزایش باشد، $v_1 < v_2$ است و $\Delta K > 0$ بوده و $W_{\text{کل}} > 0$ می شود.

$$W_{\text{کل}} > 0 \Rightarrow W_F - W_f > 0 \Rightarrow W_F > W_f$$

بنابراین هر سه حالت ممکن بوده و پاسخ گزینه (۴) می شود.

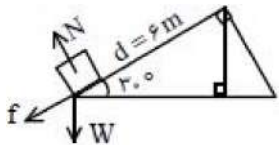
۶۵- گزینه ۲ پاسخ صحیح است. آهنگ تغییر تندى به معنای شتاب حرکت است. از این رو می توان به کمک قانون دوم نیوتن، نیروی خالص را به دست آورد.

$$F_{\text{خالص}} = ma \Rightarrow F_{\text{خالص}} = 10 \times (-10) = -100 \text{ N}$$

کار نیروی خالص برابر است با:

$$W_T = F_{\text{خالص}} d = -100 \times 6 = -600 \text{ J}$$

با توجه به این که کار کل برابر مجموع جبری تک تک نیروها است، می توان نوشت:



$$W_T = W_{mg} + W_{\text{اصطکاک}} + \cancel{W_N}$$

$$\Rightarrow -600 = mgd \cos(90 + 30) + W_{\text{اصطکاک}}$$

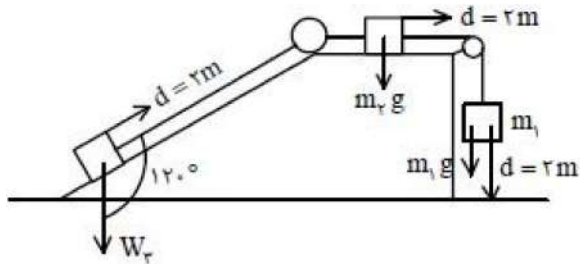
$$\Rightarrow -600 = 10 \times 10 \times 6 \times \left(-\frac{1}{2}\right) + W_{\text{اصطکاک}} \Rightarrow W_{\text{اصطکاک}} = -300$$

۶۶- گزینه ۴ پاسخ صحیح است. جسم‌های m_1 ، m_2 و m_3 به وسیله طناب به هم متصل‌اند و زمانی که m_1 ، ۲ متر پایین بیاید، m_2 ، ۲ متر به سمت راست و m_3 نیز ۲ متر روی سطح شیب‌دار حرکت می‌کند:

$$W_{m_1 g} = m_1 g d \cos \theta \Rightarrow W_{m_1 g} = m_1 g h = 10 \times 2 = 20 \text{ J}$$

$$\theta = 120^\circ \Rightarrow W_{m_2 g} = m_2 g d \cos 120^\circ = -10 \times 1 = -10 \text{ J}$$

$$\theta = 90^\circ \Rightarrow W_{m_3 g} = m_3 g d \cos 90^\circ = m_3 g d (\cdot) = \cdot$$



۶۷- گزینه ۲ پاسخ صحیح است. کار کل برابر تغییر انرژی جنبشی جسم است.

$$W_t = \Delta K \Rightarrow \begin{cases} W_{t_1} = \frac{1}{2}mv^2 - 0 \\ W_{t_2} = \frac{1}{2}m(2v)^2 - \frac{1}{2}mv^2 = 3\left(\frac{1}{2}mv^2\right) \end{cases}$$

در این صورت:

$$\frac{W_{t_1}}{W_{t_2}} = \frac{1}{3}$$

۶۸- گزینه ۳ پاسخ صحیح است. سرعت جسم قبل از پاره شدن نخ صفر است و پس از توقف در ماسه نیز صفر است، از این رو $\Delta K = 0$ است، با توجه به قضیه کار و انرژی جنبشی خواهیم داشت:

$$W_{\text{وزن}} + W_{\text{اصطکاک}} = \Delta K \Rightarrow W_{\text{وزن}} + W_{\text{اصطکاک}} = 0 \Rightarrow W_{\text{اصطکاک}} = -W_{\text{وزن}}$$

$$W_{\text{اصطکاک}} = -mg(\Delta h) \Rightarrow W_{\text{اصطکاک}} = -2 \times 10 \times \frac{25}{100} = -5 \text{ J}$$

گزینه ۲ پاسخ صحیح است. بسته هنگام رها شدن دارای سرعت $40 \frac{m}{s}$ است. با توجه به قضیه کار و انرژی جنبشی

می توان نوشت:

$$W_t = \Delta K \Rightarrow W_{\text{وزن}} + W_{\text{اصطکاک}} = \Delta K$$

$$\Rightarrow mg\Delta h - 1000 = \frac{1}{2}m(v_2^2 - v_1^2)$$

$$\Rightarrow 5 \times 10 \times 100 - 1000 = \frac{1}{2} \times 5(v_2^2 - 1600) \Rightarrow 1600 = v_2^2 - 1600$$

$$\Rightarrow v_2^2 = 3200 \Rightarrow v_2 = 40 \sqrt{2} \frac{m}{s}$$

۷۰- گزینه ۲ پاسخ صحیح است. تغییرات انرژی پتانسیل گرانشی برابر $\Delta U = mg\Delta h$ است و برای هر دو گلوله Δh یا تغییرات ارتفاع مشابه می‌باشد. چون از یک ارتفاع مشخص به زمین می‌رسند و چون گلوله‌ها مشابه هستند، پس $m_1 = m_2$ بوده و در نتیجه تغییرات انرژی پتانسیل گرانشی برای هر دو گلوله یکسان می‌باشد. اما کار اصطکاک به مسیر بستگی دارد و هرچه مسیر طولانی‌تر باشد، کار اصطکاک بیش‌تر می‌شود، پس کار اصطکاک گلوله (۱) بیش‌تر از گلوله (۲) می‌باشد.

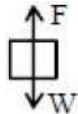
۷۱- گزینه ۳ پاسخ صحیح است. آسانسور در حال پایین آمدن است و نیروی کابل رو به بالا است، بنابراین $\theta = 180^\circ$ و کار نیروی کابل منفی است.

جسم در حال حرکت رو به پایین است. نیروی وزن و جابه‌جایی هم‌جهت بوده، کار نیروی وزن مثبت است. از طرفی کار نیروی وزن برابر منفی تغییر انرژی پتانسیل گرانشی است.

$$\Delta U_g = -W_g \xrightarrow{W_g > 0} \Delta U_g < 0$$

جسم دارای تندی ثابت است، بنابراین نیروی خالص وارد بر m صفر است یعنی نیروی کشسانی فنر رو به بالا نیروی وزن را خنثی کرده است. در این صورت کار نیروی کشسانی فنر منفی است.

$$\Delta U_{\text{کشسانی}} = -W_{\text{فنر}} \xrightarrow{W_{\text{فنر}} < 0} \Delta U_{\text{کشسانی}} > 0$$



۷۲- گزینه ۳ پاسخ صحیح است. ابتدا مساحت را به دست می آوریم:

$$A = \pi r^2 = 3/14 \times (3 \times 10^{-3})^2 = 3/14 \times 9 \times 10^{-6} = 28/26 \times 10^{-6} = 2/83 \times 10^{-5} \text{ mm}^2$$

حال تبدیل واحدهای گزینه‌ها را بررسی می کنیم:

$$2/826 \times 10^{-5} \times \left(\frac{1 \text{ cm}}{10 \text{ mm}} \right)^2 = 2/83 \times 10^{-7} \text{ cm}^2 : \text{cm}^2 \text{ بر حسب}$$

$$2/826 \times 10^{-5} \times \left(\frac{1 \text{ cm}}{10^3 \text{ mm}} \right)^2 = 2/83 \times 10^{-11} \text{ m}^2 : \text{m}^2 \text{ بر حسب}$$

$$2/826 \times 10^{-5} \times \left(\frac{10^6 \text{ nm}}{1 \text{ mm}} \right)^2 = 2/83 \times 10^7 \text{ nm}^2 : \text{nm}^2 \text{ بر حسب}$$

۷۳- گزینه ۲ پاسخ صحیح است. دقت برابر کمینه درجه بندی یک وسیله می باشد که برابر است با:

$$\frac{10}{4} = 2/5 \frac{\text{km}}{\text{h}} \xrightarrow{\text{خطا}} \frac{2/5}{2} = 1/25 \frac{\text{km}}{\text{h}}$$

چون دقت یک رقم بعد از اعشار دارد باید خطا نیز یک رقم بعد اعشار داشته باشد، پس خطا برابر است با:

$$1/25 \approx 1/3 \frac{\text{km}}{\text{h}}$$

در این صورت گزینه (۲) پاسخ صحیح است.

۷۴- گزینه ۱ پاسخ صحیح است. در اثر آلیاژ شدن ۱۰cm^3 از حجم ماده کاهش یافته، پس:

$$V_1 + V_2 = 50 + 10 = 60\text{cm}^3 \quad (۱)$$

با توجه به جرم و چگالی مواد داریم:

$$m_1 + m_2 = 180\text{g} \Rightarrow \rho_1 V_1 + \rho_2 V_2 = 180 \Rightarrow 2V_1 + 4V_2 = 180 \quad (۲)$$

حال با حل معادله (۱) و (۲) داریم:

$$\begin{cases} (V_1 + V_2 = 60) \times (-2) \\ 2V_1 + 4V_2 = 180 \end{cases} \Rightarrow 2V_2 = 60 \Rightarrow V_2 = 30\text{cm}^3, V_1 = 30\text{cm}^3$$

۷۵- گزینه ۲ پاسخ صحیح است. ابتدا کل ساعات روشن بودن لامپها در یک ماه را محاسبه می‌کنیم:

$$6 \times 6 \times 30 \approx 10 \times 10 \times 10 = 10^3$$

$$10^3 \times \frac{3600 \text{ s}}{1 \text{ h}} \approx 10^6 \text{ s}$$

$$P = \frac{E}{t} \Rightarrow E = Pt = 10^2 \times 10^6 = 10^8 \text{ J}$$

لامپ ۱۰۰ W می‌باشد، پس:

بنابراین کل انرژی مصرفی در لامپها برابر 10^8 J می‌باشد که این انرژی $\frac{90}{100}$ انرژی کلی است که از طریق کابل برق

به ما رسیده که تخمین $\frac{90}{100}$ برابر ۱ می‌باشد، پس انرژی کل در خطوط نیز برابر 10^8 J می‌باشد که این انرژی حاصل

$\frac{35}{100}$ انرژی داده شده از نیروگاه می‌باشد.

$$10^8 = \frac{35}{100} E_{\text{کل}} \Rightarrow \frac{10^{10}}{35} = E_{\text{کل}} \Rightarrow E_{\text{کل}} \cong 10^9 \text{ J}$$

بنابراین انرژی کل داده شده از مرتبه 10^9 J می‌باشد. می‌دانیم به ازای هر لیتر $35 \times 10^6 \text{ J}$ انرژی تولید می‌شود که

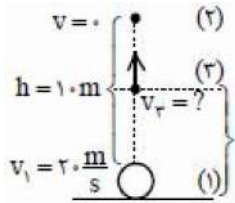
تخمین آن برابر 10^7 J ، پس برای تولید 10^9 J انرژی باید 100 lit گازوییل مصرف شود.

۷۶- گزینه ۲ پاسخ صحیح است. با توجه به قضیه کار و انرژی جنبشی داریم:

$$\left. \begin{array}{l} W_1 = \Delta k_1 \\ W_2 = \Delta k_2 \end{array} \right\} \begin{array}{l} W_1 = W_2 \\ \longrightarrow \\ \Delta k_1 = \Delta k_2 \end{array}$$

$$\Rightarrow \frac{1}{2} m v_1^2 = \frac{1}{2} (\gamma m) v_2^2 \Rightarrow v_1^2 = \gamma v_2^2 \Rightarrow v_1 = \sqrt{\gamma} v_2$$

۷۷- گزینه ۴ پاسخ صحیح است. با توجه به قانون پایستگی انرژی می توان نوشت:

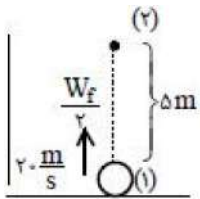


$$E_2 - E_1 = W_f \Rightarrow mgh - \frac{1}{2}mv_2^2 = W_f$$

$$\Rightarrow 200 - 400 = W_f \Rightarrow W_f = -200 \text{ J}$$

سرعت در نیمه مسیر در نقطه $\left(\frac{h}{2}\right)$ خواسته شده. نیروی مقاومت هوا در طول مسیر ثابت فرض شده، بنابراین کار

نیروی اصطکاک در نصف مسیر برابر $\frac{W_f}{2} = -100 \text{ J}$ می شود.



$$E_2 - E_1 = \frac{W_f}{2} \Rightarrow \frac{1}{2}mv_2^2 + mg\left(\frac{h}{2}\right) - \frac{1}{2}mv_1^2 = \frac{W_f}{2}$$

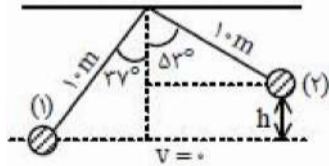
$$\Rightarrow \frac{1}{2} \times 2v_2^2 + 20 \times 5 - \frac{1}{2} \times 2 \times 400 = -100$$

$$v_2^2 + 100 - 400 = -100 \Rightarrow v_2^2 = 200 \Rightarrow v_2 = 10\sqrt{2} \frac{\text{m}}{\text{s}}$$

۷۸- گزینه ۲ پاسخ صحیح است. بر ماهواره تنها نیروی وزن وارد می‌شود که چون بر مسیر حرکت ماهواره عمود می‌باشد، پس کار انجام شده بر ماهواره صفر می‌شود و طبق رابطه کار و انرژی جنبشی داریم:

$$W_{\text{کل}} = \Delta K \xrightarrow{W_{\text{کل}} = 0} \Delta K = 0 \Rightarrow \frac{1}{2}mv_2^2 - \frac{1}{2}mv_1^2 = 0 \Rightarrow v_1 = v_2$$

۷۹- گزینه ۲ پاسخ صحیح است. گوی به دیوار برخورد نکند یعنی در لحظه رسیدن گوی به دیوار سرعت آن صفر باشد از این رو:



$$E_1 = E_2 \Rightarrow \frac{1}{2}mv_1^2 = mgh$$

$$h = 1.0 \cos 37^\circ - 1.0 \cos 53^\circ = 0.8 - 0.6 = 0.2\text{ m}$$

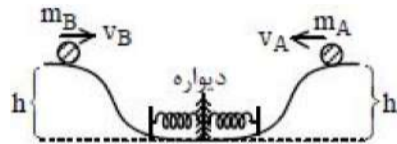
$$\Rightarrow \frac{1}{2}v_1^2 = 2.0 \Rightarrow v_1^2 = 4.0 \Rightarrow v_1 = 2\sqrt{1.0} \frac{\text{m}}{\text{s}}$$

۸۰- گزینه ۳ پاسخ صحیح است. در انتهای مسیر انرژی مکانیکی هر دو گوی برابر انرژی پتانسیل کشسانی فنر می شود و چون این انرژی برای هر دو گوی برابر می شود، داریم:

$$E_{1A} = E_{2A} \Rightarrow E_{1A} = U_{\text{کشسانی}}$$

$$E_{1B} = E_{2B} \Rightarrow E_{1B} = U_{\text{کشسانی}}$$

$$E_{1A} = E_{1B} \Rightarrow m_A gh + k_A = m_B gh + k_B$$

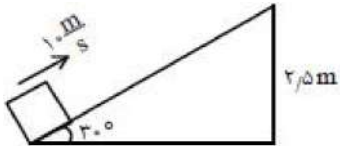


با توجه به $m_A > m_B$ نتیجه می شود:

$$k = \frac{1}{2}mv^2$$

$$k_A < k_B \longrightarrow v_A < v_B$$

۸۱- گزینه ۲ پاسخ صحیح است.



$$E_1 - \frac{1}{2} \times 2 \times 10^2 = -5 \times 5$$

$$E_1 = \frac{1}{2} mv^2 + mgh$$

$$\Rightarrow 2 \times 10 \times 2.5 + \frac{1}{2} \times 2 = v^2 \Rightarrow v^2 = 25 \Rightarrow v = 5 \frac{\text{m}}{\text{s}}$$

۸۲- گزینه ۳ پاسخ صحیح است. ابتدا توان را حساب می‌کنیم:

$$P = \frac{W_{\text{کل}}}{t} = \frac{\Delta k}{t} = \frac{\frac{1}{2} \times 100 \left((20)^2 - (10)^2 \right)}{4} = \frac{50 \times 300}{4} = 75 \times 50 W$$

حال با توجه به تبدیل واحد که در متن کتاب هست، داریم:

$$1 \text{ hP} = 746 W \Rightarrow 1 \text{ hP} \cong 750 W \Rightarrow 75 \times 50 \times \frac{1 \text{ hP}}{750 W} = 5 \text{ hP}$$

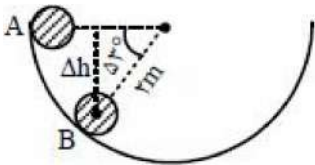
۸۳- گزینه ۳ پاسخ صحیح است. توان ورودی هر دو تلمبه یکسان است، بنابراین انرژی ورودی هر دو با هم برابر است. این انرژی ورودی باعث می‌شود تلمبه اول ۷۰ lit یا ۷۰ kg آب را به ارتفاع ۱۰ متری ببرد، در این صورت:

$$(R_a)_A = \frac{(E_A)_{\text{مفید}}}{(E_{JA})_{\text{کل}}} = \frac{m_A g h_A}{E_{\text{کل}}} = \frac{۷۰ \times ۱۰ \times ۱۰}{E_{\text{کل}}}$$

انرژی ورودی در تلمبه دوم، ۵۰ lit یا ۵۰ kg آب را به ارتفاع ۱۴ متری می‌برد، پس:

$$(R_a)_B = \frac{(E_B)_{\text{مفید}}}{(E_B)_{\text{کل}}} = \frac{m_B g h_B}{E_{\text{کل}}} = \frac{۵۰ \times ۱۰ \times ۱۴}{E_{\text{کل}}}$$

$$\frac{R_{aA}}{R_{aB}} = \frac{\frac{۷۰ \times ۱۰ \times ۱۰}{E_{\text{کل}}}}{\frac{۵۰ \times ۱۰ \times ۱۴}{E_{\text{کل}}}} = ۱$$



۱۴- گزینه ۳ پاسخ صحیح است. جابه‌جایی جسم در راستای قائم را به دست می‌آوریم:

$$\Delta h = 2 \times \sin 53^\circ = 1/6 \text{ m}$$

$$W_{mg} = mg(\Delta h) = 2 \times 10 \times 1/6 = 32 \text{ J}$$

گزینه ۲ پاسخ صحیح است. گزاره «الف»: بنزین به دلیل چگالی کم‌تر روی آب قرار می‌گیرد و این پدیده به پدیدهٔ پخش ارتباطی ندارد.

گزاره «ب»: به دلیل پدیدهٔ پخش در مایعات، قطرهٔ جوهر درون یک لیوان شیر پخش می‌شود.

گزاره «پ»: به دلیل پدیدهٔ پخش در گازها باعث می‌شود بوی عطر در کل اتاق پخش شود.

گزاره «ت»: پخش شدن آب روی سطح شیشهٔ تمیز به‌خاطر بیش‌تر بودن نیروی دگرچسبی آب و شیشه از نیروی هم‌چسبی آب می‌شود.

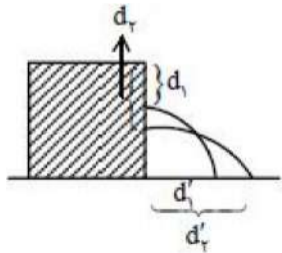
بنابراین گزاره‌های «ب» و «پ» مربوط به پدیدهٔ پخش است.

۱۶- گزینه ۳ پاسخ صحیح است. ویژگی‌های فیزیکی تمام مواد در مقیاس نانو تغییر می‌کند. به علاوه لازم نیست که همه ابعاد یک ماده در مقیاس نانو باشد و تنها لازم است که یکی از ابعاد آن نانو باشد، پس گزینه (۳) درست است.

در مورد گزینه (۱): دقت کنید که در گزینه (۱) بیان شده که حجم الزاماً بر حسب nm^3 باشد در حالی که حجم می‌تواند بر حسب m^3 باشد، اما یکی از ابعاد آن در مقیاس نانو بوده اما حجم بر حسب m^3 بیان شود، بنابراین یکای حجم در تغییر فیزیکی تأثیری ندارد.

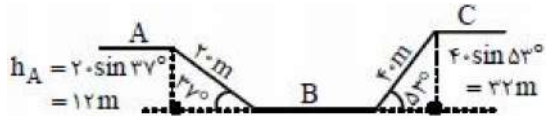
۱۷- گزینه ۳ پاسخ صحیح است. نیروهای افقی در یک عمق با هم برابرنند و در امتداد قائم در عمق بیش تر نیرو بزرگ تر است، بنابراین گزینه (۳) درست است.

۱۸- گزینه ۲ پاسخ صحیح است. هرچه سوراخ پایین تر باشد، آب با فشار بیشتری خارج می شود و آب خروجی فاصله بیشتری از ظرف می گیرد:



$$d_2 > d_1 \Rightarrow d'_2 > d'_1$$

۱۹- گزینه ۳ پاسخ صحیح است.



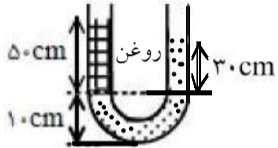
$$P_C - P_A = \rho g (h_C - h_A) = 1/2 \times 10 \cdot (4.4 - 4) = 2 \text{ Pa}$$

۹۰- گزینه ۱ پاسخ صحیح است. ابتدا چگالی روغن را به دست می آوریم:

$$\rho_s h_s = \rho_w h_w$$

$$\Rightarrow \rho_s \times 50 = 1 \times 30$$

$$\Rightarrow \rho_s = 0.6 \frac{g}{cm^3}$$

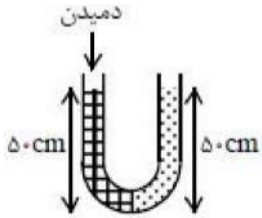


بعد از دمیدن:

$$P_{رَیه} + \rho_s g h_s = \rho_w g h_w + P_s$$

$$\Rightarrow P_{رَیه} - P_s = \rho_w g h_w - \rho_s g h_s$$

$$\Rightarrow P_g = 1000 \times 10 \times 0.5 - 600 \times 10 \times 0.5 = 2000 \text{ Pa}$$



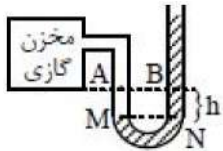
۹۱- گزینه ۳ پاسخ صحیح است. فشار حاصل از مایع‌های ۱ و ۲ را به cmHg تبدیل می‌کنیم.

$$P_1 = \frac{\rho_1}{\rho_{\text{Hg}}} \times h = \frac{6/8}{13/6} \times 10 = 5 \text{ cmHg}$$

$$P_2 = \frac{\rho_2}{\rho_{\text{Hg}}} \times h = \frac{3/4}{13/6} \times 16 = 4 \text{ cmHg}$$

$$P_{\text{کف}} = P_1 + P_2 + P_s = 4 + 5 + 75 = 84 \text{ cmHg}$$

۹۲- گزینه ۲ پاسخ صحیح است. C و D هم‌تراز بوده و در یک مایع قرار دارند، پس $P_C = P_D$ می‌باشد. نقطه A تنها فشار مخزن را تحمل می‌کند:



$$P_M = P_N$$

$$P_M = P_{\text{مخزن}} = P_A$$

$$P_B = P_N - \rho gh = P_A - \rho gh$$

$$\Rightarrow P_A > P_B$$

۹۳- گزینه ۲ پاسخ صحیح است. فشار وارد ده بر کف برابر فشار وارد شده به سطح A' می‌باشد، پس:

$$\Delta P = \frac{\Delta E}{A} = \frac{\Delta W}{A} = \frac{\rho g \Delta v}{A'} \Rightarrow 400 = \frac{10000 \times 10 \times 10^{-3}}{A'} \Rightarrow A' = 2/5 \times 10^{-2} \text{ m}^2$$

حال با توجه به حجم اولیه داریم:

$$V_{\text{کل}} = A' \times 2 \times 10^{-2} + A \times 7/2 \times 10^{-2} = 2 \times 10^{-3}$$

$$\Rightarrow 0/5 \times 10^{-3} + A \times 5 \times 10^{-2} = 2 \times 10^{-3}$$

$$\Rightarrow A \times 5 \times 10^{-2} = 1/5 \times 10^{-3} \Rightarrow A = 3 \times 10^{-2} \text{ m}^2$$

$$\frac{A}{A'} = \frac{3 \times 10^{-2}}{2/5 \times 10^{-2}} = 1/2$$

۹۴- گزینه ۲ پاسخ صحیح است. در شکل (۱) جسم در مایع B بیش تر فرو رفته، پس $P_B < P_A$ می باشد. در شکل (۲)

جسم D بیش تر از جسم C در مایع فرو رفته، پس $P_C < P_D$ می باشد.

۹۵- گزینه ۳ پاسخ صحیح است. با وارد کردن جسم در هر دو مایع، حجم مایع‌ها به اندازه حجم ماده جابه‌جا می‌شود، پس:

$$\Delta V_A = \Delta V_B$$

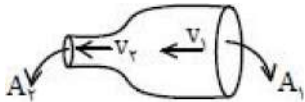
با توجه به شکل (۳)، $\rho_A > \rho_B$ می‌باشد، بنابراین وزن مایع جابه‌جا شده در شکل (۱) بیش‌تر است.

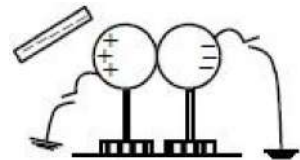
می‌دانیم با توجه به اصل ارشمیدس وقتی تمام یا قسمتی از یک جسم در شاره‌ای فرو رود، شاره نیروی بالاسو به آن وارد می‌کند که با وزن شاره جابه‌جا شده توسط جسم برابر است و چون وزن جابه‌جا شده مایع A بیش‌تر بوده، پس نیروی بالای سوی بیش‌تری به گوی وارد می‌کند و F_1 عدد کوچک‌تری می‌شود.

۹۶- گزینه ۳ پاسخ صحیح است. با توجه به معادله پیوستگی می توان نوشت:

$$A_1 v_1 = A_2 v_2 \Rightarrow \pi r_1^2 \times v_1 = r_2^2 v_2$$

$$\Rightarrow 16 \times 9 = 2/25 \times v_2 \Rightarrow v_2 = 16 \times 4 = 64 \frac{\text{cm}}{\text{s}}$$





۹۷- گزینه ۴ پاسخ صحیح است. میله باردار نزدیک کره A بوده و هر طور که این دو کره را به زمین وصل کنیم، بار کره A تغییری نخواهد کرد، بنابراین بار کره A در هر صورت مثبت می ماند.

۹۸- گزینه ۳ پاسخ صحیح است. با تماس میله به الکتروسکوپ مقداری از بار میله به الکتروسکوپ منتقل می‌شود، الکتروسکوپ دارای بار منفی شده و ورقه‌ها از هم فاصله می‌گیرند. حال با نزدیک شدن میله (۱) که دارای بار منفی است به کلاهک الکتروسکوپ، بارهای منفی بیش‌تر از کلاهک به ورقه‌ها منتقل می‌شود و فاصله بین ورقه‌ها افزایش می‌یابد، بنابراین $\beta > \alpha$ است.

۹۹- گزینه ۱ پاسخ صحیح است. برای این که بار از $+7\mu\text{C}$ به $-9\mu\text{C}$ برسد باید $-16\mu\text{C}$ بار الکتریکی به جسم داده شود که تعداد الکترونها را لازم برای ایجاد این بار از رابطه $q = -ne$ محاسبه کنیم.

$$-16 \times 10^{-6} = -n \times 1/6 \times 10^{-19} \Rightarrow 10 \times 10^{13} = n \Rightarrow n = 10^{14}$$

۱۰۰- گزینه ۳ پاسخ صحیح است. چون گوی‌های (۲) و (۳) مشابه‌اند، بنابراین بعد از تماس بار آن‌ها با هم برابر می‌شود و بار بعد از تماس آن‌ها را با q' نشان می‌دهیم. اگر بار بعد از تماس گوی (۱) را نیز با q'_1 نشان دهیم، طبق اصل پایستگی بار الکتریکی داریم:

$$q_1 + q_2 + q_3 = q'_1 + q'_2 + q'_3$$

$$(-4) + 2 + (-2) = -2 + q' + q' \Rightarrow 2q' = -2 \Rightarrow q' = 1 \mu\text{C}$$

گزینه ۳ پاسخ صحیح است. نیروی الکتریکی اولیه برابر است با: $F = k \frac{q_1 q_2}{d^2}$

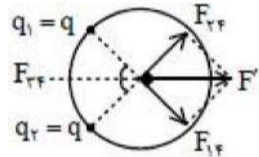
اگر اندازه نیرو ۱۹٪ کاهش یابد، نیروی الکتریکی بین دو بار برابر خواهد شد با:

$$F' = F - 19\%F = 81\%F$$

$$F' = k \frac{q_1 q_2}{d'^2} = 81\% \times k \frac{q_1 q_2}{d^2} \Rightarrow d'^2 = \frac{100}{81} d^2 \Rightarrow d' = \frac{10}{9} d$$

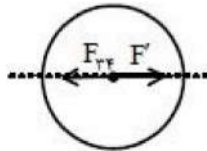
بنابراین $\left(\Delta d = d' - d = \frac{d}{9} \right)$ فاصله افزایش می‌یابد.

۱۰۲- گزینه ۳ پاسخ صحیح است. بار q_4 را مثبت فرض می‌کنیم و نیروهای وارده از طرف q_1 و q_2 را رسم کرده و اندازه آنها را محاسبه می‌کنیم، چون نیروهای F_{14} و F_{24} هم‌اندازه هستند، پس برآیند آنها (با توجه به تقارن) روی محور x ها می‌افتد.



حال نیروی حاصل از q_3 باید هم‌اندازه با F' و در خلاف جهت آن باشد یعنی باید بار q هم مثبت باشد و داریم:

$$F_{34} = F' \Rightarrow k \frac{|q_3| |q_4|}{r^2} \Rightarrow k \frac{|q| |q_4|}{r^2} \sqrt{2} \Rightarrow \frac{q_3}{q_2} = \sqrt{2}$$

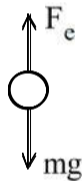


۱۰۳- گزینه ۲ پاسخ صحیح است. برای این که گوی (۲) در حال تعادل باشد باید نیروهای وارد بر آن با هم برابر و خلاف جهت هم باشند.

$$F_e = mg \Rightarrow k \frac{|q_1||q_2|}{r^2} = mg$$

$$\Rightarrow \cancel{9} \times 10^9 \times \frac{\cancel{9} \times 10^{-6} \times |q_2|}{\cancel{9} \times 10^{-4}} = 20 \times 10^{-3} \times 10$$

$$\Rightarrow |q_2| \times 10^7 = 2 \times 10^{-1} \Rightarrow |q_2| = 2 \times 10^{-8} = 0.2 \mu\text{C}$$



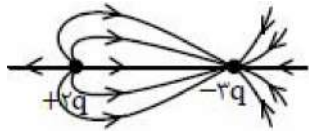
و چون نیروی بین q_1 و q_2 باید جاذبه‌ای باشد، پس بار q_2 منفی می‌باشد: $q_2 = -0.2 \mu\text{C}$

۱۰۴- گزینه ۳ پاسخ صحیح است. با توجه به شکل:

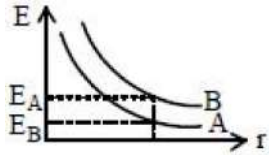
(الف) میدان اطراف بار بزرگتر قوی تر و تراکم خطوط اطراف آن بیش تر است، پس تعداد خطوط اطراف هر دو بار یکسان نیست.

(ب) خط‌های میدان نسبت به خط واصل متقارن می‌باشد و گزاره «ب» درست است.

(پ) نیروی وارد بر ذره منفی خلاف جهت میدان می‌باشد، بنابراین گزاره «پ» درست است.



۱۰۵- گزینه ۴ پاسخ صحیح است. با توجه به نمودار در یک فاصله معین میدان حاصل از ذره B بزرگتر از ذره A می باشد، پس داریم:



$$E_A < E_B \Rightarrow k \frac{|q_A|}{r} < k \frac{|q_B|}{r} \Rightarrow |q_A| < |q_B|$$

اما در مورد نوع بار هیچ اظهار نظری نمی توان کرد.

۱۰۶- گزینه ۳ پاسخ صحیح است. میدان‌های حاصل از بارهای q و q' در نقطه O به صورت زیر است یعنی هر دو بار q و q' منفی می‌باشند.

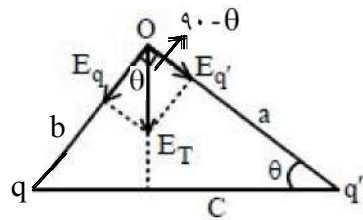
$$E_q = E_T \cos \theta$$

$$E_{q'} = E_T \cos(90^\circ - \theta) = E \sin \theta$$

$$\frac{E_{q'}}{E_q} = \frac{k \frac{|q'|}{a^2}}{k \frac{|q|}{b^2}} = \frac{E \sin \theta}{E \cos \theta} = \tan \theta$$

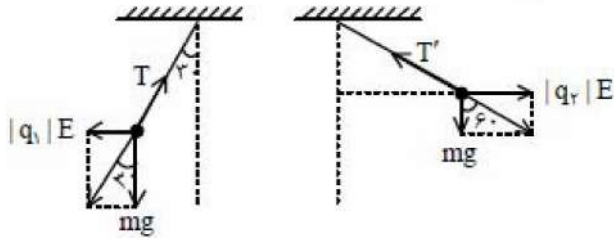
$$\Rightarrow \frac{|q'| b^2}{|q| a^2} = \tan \theta \quad \begin{matrix} a = c \cos \theta \\ b = c \sin \theta \end{matrix} \rightarrow \frac{|q'|}{|q|} \times \tan^2 \theta = \tan \theta$$

$$\frac{|q'|}{|q|} = \frac{1}{\tan \theta} = \cot \theta$$



چون بارهای q و q' همنام اند، پس $\frac{q'}{q} = \cot \theta$ می‌باشد.

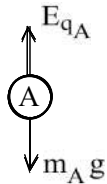
۱۰۷- گزینه ۴ پاسخ صحیح است. با توجه به این که نیروی وارد بر q_1 خلاف جهت خطوط میدان است، پس q_1 منفی بوده و هم چنین چون نیروی وارد بر q_2 هم جهت خطوط میدان است، پس q_2 مثبت می باشد. با توجه به شکل داریم:



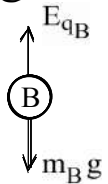
$$\left. \begin{aligned} q_2 \text{ برای: } \operatorname{tg} 60^\circ &= \frac{E|q_2|}{mg} = \sqrt{3} \\ \operatorname{tg} 30^\circ &= \frac{E|q_1|}{mg} = \frac{\sqrt{3}}{3} \end{aligned} \right\} \Rightarrow \frac{E|q_2|}{mg} = \frac{|q_2|}{|q_1|} = 3$$

و چون $\frac{q_2}{q_1} = -3$ پس q_1 و q_2 ناهم نام اند، پس می شود.

۱۰۸- گزینه ۲ پاسخ صحیح است. با توجه به شکل‌های زیر عددی که هر نیروسنج نشان می‌دهد برابر است با:



$$F_A = E_{q_A} - m_A g$$



$$F_B = E_{q_B} - m_B g$$

با توجه به صورت سؤال $m_A = m_B$ و $q_A = q_B$ می‌باشد، پس: $F_A = F_B$.

۱۰۹- گزینه ۱ پاسخ صحیح است. با توجه به این که $w = \Delta k = 0.1$ و $w = Edq$ داریم:

$$5 \times 10^{-4} \times 4.0 \times 10^{-6} \times d = 0.1 \Rightarrow d = \frac{1}{5} = 0.2 \text{ m} = 20 \text{ cm}$$

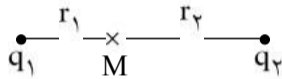
۱۱۰- گزینه ۳ پاسخ صحیح است. با تماس گوی C با کره A بار رسانا روی سطح خارجی پخش می‌شود و بار گوی C صفر می‌شود. چون دو کره A و B در تماس با هم‌اند، بار روی سطح آنها پخش شده و به دلیل تشابه کره‌ها، بار روی کره‌های A و B با هم مساوی می‌باشد.

۱۱۱- گزینه ۳ پاسخ صحیح است. چگالی سطحی در نقطه A بیش تر از B بوده و میزان انحراف آونگ در این نقطه بیش تر است.

۱۱۲- گزینه ۴ پاسخ صحیح است. با توجه به این که می‌تواند اجسام A ، B و C هر سه دارای بار باشند، در آن صورت B و C باید مخالف A باشند، پس هم‌دیگر را دفع می‌کنند و هم‌چنین می‌تواند B و C خنثی بوده و توسط القا توسط جسم A جذب شده باشند و به هم نیرویی وارد نکنند و هم‌چنین ممکن است یکی از B و C خنثی باشد و دیگری دارای بار باشد و در این حالت هم‌دیگر را جذب خواهند کرد.

۱۱۳- گزینه ۲ پاسخ صحیح است. نقطه M بین دو بار است:

$$\frac{kq_1}{r_1^2} = \frac{kq_2}{r_2^2} \Rightarrow \frac{r_2}{r_1} = \sqrt{\frac{q_2}{q_1}}$$



پس نقطه M به بار کوچکتر نزدیک است. برای صفر ماندن میدان در نقطه M باید جابه‌جایی بارها نیز به همین نسبت باشد ولی با یکسان جابه‌جا کردن بارها، بار کوچکتر بیش‌تر از نسبت فوق جابه‌جا شده است، پس میدان بزرگتری خواهد داشت و در نتیجه میدان به سمت بار بزرگتر خواهد بود.

۱۱۴- گزینه ۳ پاسخ صحیح است. پتانسیل الکتریکی محل بار مثبت کاهش و محل بار منفی افزایش می‌یابد و انرژی پتانسیل آنها به یک میزان کاهش یافته و بنابراین انرژی جنبشی آنها به یک میزان افزایش می‌یابد.

۱۱۵- گزینه ۳ پاسخ صحیح است. پتانسیل الکتریکی در جهت خطوط میدان الکتریکی به اندازه Ed کاهش می‌یابد. d فاصله دو نقطه در راستای خطوط میدان است.

$$V_A - V_B = 2500 \times \frac{4}{100} = 100 \text{ V}$$

۱۱۶- گزینه ۴ پاسخ صحیح است. بزرگی بار برابر $5C$ است یعنی بار یا برابر $+5C$ می باشد که در این صورت داریم:

$$\vec{F} = \vec{E}q \Rightarrow \vec{E} = \frac{\vec{F}}{q} \Rightarrow \vec{E} = -8.0\mathbf{i} + 6.0\mathbf{j}$$

یا بار برابر $-5C$ می باشد که در این صورت داریم:

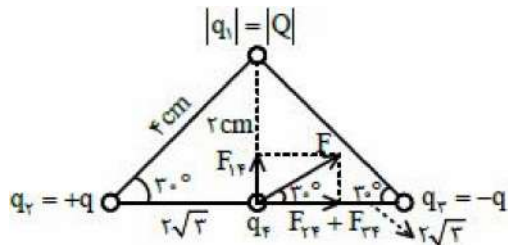
$$\vec{E} = \frac{\vec{F}}{q} \Rightarrow \vec{E} = 8.0\mathbf{i} - 6.0\mathbf{j}$$

۱۱۷- گزینه ۳ پاسخ صحیح است. در حالت اول بار هر کره را q در نظر می‌گیریم. آنچه باعث می‌شود که دو کره A و B از هم فاصله گیرند، نیروی دافعه الکتریکی بین دو کره می‌باشد. با تخلیه بار کره A ، دو کره در راستای قائم با هم تماس پیدا می‌کنند و چون دو کره مشابه‌اند، بار هر کره برابر $\frac{q}{۲}$ می‌شود و نیروی دافعه از حالت قبل کم‌تر می‌شود و زاویه بین دو آونگ کم‌تر از α می‌شود.

گزینه ۲ پاسخ صحیح است. با دو برابر شدن طول ضلع‌ها فاصله هر ذره تا q_1 دو برابر شده و نیروی هر بار $\frac{1}{4}$ شده و

در نتیجه برآیند نیروها با توجه به رابطه $k \frac{q_1 q_2}{r^2}$ ، $\frac{1}{4}$ می‌شود.

۱۱۹- گزینه ۳ پاسخ صحیح است. با توجه به علامت بارهای q_3 و q_2 و جهت نیرو داریم:



$$F' = F_{22} + F_{23} = 2 \left(k \frac{|q_2||q_3|}{r^2} \right) = 2 \times 9 \times 10^9 = \frac{|q||q_3|}{12 \times 10^{-4}}$$

$$F_{12} = k \frac{|q_2||Q|}{r^2} = 9 \times 10^9 \times \frac{|q_3||Q|}{4 \times 10^{-4}}$$

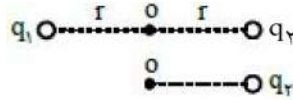
$$\Rightarrow \operatorname{tg} 30^\circ = \frac{F_{12}}{F'} = \frac{\frac{9 \times 10^9 |q_3||Q|}{4 \times 10^{-4}}}{\frac{2 \times 9 \times 10^9 \times |q||q_3|}{12 \times 10^{-4}}} \Rightarrow \frac{\sqrt{3}}{3} = \frac{12}{8} \times \frac{|Q|}{|q|} \Rightarrow \frac{2\sqrt{3}}{9} = \frac{|Q|}{|q|}$$

که با توجه به علامت منفی Q :

$$\frac{Q}{q} = -\frac{2\sqrt{3}}{9} \Rightarrow \frac{q}{Q} = \frac{-9}{2\sqrt{3}} = \frac{-3\sqrt{3}}{2}$$

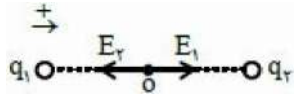
۱۲۰- گزینه ۳ پاسخ صحیح است. در دو حالت میدان خالص را می نویسیم:

$$\begin{cases} \vec{E}_1 + \vec{E}_2 = \vec{E} \\ \vec{E}_2 = -\frac{1}{2}\vec{E} \end{cases} \Rightarrow \vec{E}_1 = \frac{3}{2}\vec{E}$$



حال با توجه به اندازه میدان‌های به دست آمده داریم:

$$\begin{cases} E_1 = k \frac{|q_1|}{r^2} \\ E_2 = k \frac{|q_2|}{r^2} \end{cases} \Rightarrow \frac{E_1}{E_2} = \frac{|q_1|}{|q_2|} = 3$$



حال با توجه به جهت E_1 و E_2 داریم:

$$\frac{q_1}{q_2} = 3$$

پس باید q_1 و q_2 هم‌نام باشد، از این‌رو: