

سوالات آزمون اصلی آیین نامه رانندگی

(جواب سوالات به صورت تیک ✓ سبز رنگ در کنار پاسخ درست مشخص شده است)



آزمون شماره ۱
نمونه سوالات آزمون آیین نامه اصلی با جواب

<p>۲- علائم هشدار دهنده برای خطر به چه شکلی ترسیم می گردند ؟ (۱) هشت گوشه (۲) دایره ای (۳) لوزی شکل (۴) مثلث ✓</p>	<p>۱- در برخورد راه اصلی با راه فرعی حق تقدم عبور با وسیله ای است که ؟ (۱) از راه اصلی عبور می کند ✓ (۲) از راه فرعی عبور می کند (۳) به سمت راست گردش می کند (۴) در طرف راست وسیله نقلیه دیگر قرار دارد</p>
<p>۴- علائم اخباری برای گرفتن سبقت در شب کدام مورد است ؟ (۱) تعویض نور چراغ بالا به پایین ✓ (۲) بوق کوتاه و چراغ راهنما (۳) اشاره با دست (۴) افزایش سرعت و تبدیل متناوب نور چراغ</p>	<p>۳- در راه های شیب دار کوهستانی که در آنها عبور دو وسیله نقلیه کنار هم مشکل می باشد حق تقدم عبور با کدام است ؟ (۱) وسیله نقلیه ای که در سرازیری در حال حرکت است (۲) حق تقدم با وسیله نقلیه سبک می باشد (۳) وسیله نقلیه ای که در سربالایی در حال حرکت است ✓ (۴) حق تقدم با وسایل نقلیه سنگین است</p>
<p>۶- در معابر محلی حداکثر سرعت چند کیلومتر در ساعت می باشد ؟ (۱) ۴۰ (۲) ۵۰ (۳) ۴۵ (۴) ۳۰ ✓</p>	<p>۵- حداکثر سرعت در بزرگراه های واقع در شهر ها و مناطق مسکونی چند کیلومتر در ساعت است ؟ (۱) ۱۰۰ ✓ (۲) ۱۲۰ (۳) ۱۱۰ (۴) ۱۲۵</p>
<p>۸- کدام مورد زیر از مصادیق رانندگی پرخطر و پرخاشگرانه است ؟ ۱- رانندگی بین خطوط (۲) توقف پشت خط ایست (۳) رعایت فاصله طولی (۴) مانور و تغییر مسیر به طور مکرر ✓</p>	<p>۷- در هنگام روبرو شدن با وسیله نقلیه ای که از جهت مخالف حرکت می کند برای افزایش ایمنی تردد از چه فاصله ای باید چراغ نور پایین استفاده نمود ؟ (۱) ۱۵۰ متری ✓ (۲) ۵۰ متری (۳) ۱۰۰ متری (۴) ۷۵ متری</p>

آزمون شماره ۱
نمونه سوالات آزمون آیین نامه اصلی با جواب

<p>۱۰- یکی از عوامل اصلی حوادث جاده ای مرگ و میر در گروه سنی زیر ۴۰ سال در کشور ایران چه چیزی می باشد ؟</p> <p>(۱) رعایت قوانین و مقررات (۲) رعایت سرعت مطمئنه (۳) رعایت اصول ایمنی (۴) بی توجهی به فرهنگ رانندگی عدم رعایت قوانین و مقررات ✓</p>	<p>۹- از جمله احتیاط های لازم در هنگام وقوع تصادفات انجام کدامیک از موارد زیر اشتباه است ؟</p> <p>(۱) روشن نگه داشتن خودرو حتی در صورتی که خودرو قابلیت حرکت ندارد ✓ (۲) هشدار توسط افراد به دیگر رانندگان تا سرعت خودرو را کاهش دهند (۳) استفاده از تابلوهای اعلام خطر (۴) تذکر جهت روشن نکردن سیگار در صورت آسیب باک سوخت خودروها</p>
<p>۱۲- وظیفه کنیستر در خودرو چیست ؟</p> <p>(۱) از تبخیر روغن موتور جلوگیری می کند (۲) عمر باتری را طولانی می کند (۳) از تبخیر آب رادیاتور جلوگیری می کند (۴) از ورود بخار های بنزین به فضای آزاد جلوگیری می کند ✓</p>	<p>۱۱- به مجموع رفتارهای منفی در رانندگی چه می گویند ؟</p> <p>(۱) رانندگی مطمئنه (۲) رانندگی ایمن (۳) رانندگی خطر ساز و یا رانندگی تهاجمی ✓ (۴) فرهنگ رانندگی</p>
<p>۱۴- در ارزیابی مصدومین کدامیک از مصدومین را باید در اولویت انجام کمک های اولیه قرار داد ؟</p> <p>(۱) مصدومینی که آسیب های آنها کم تر است (۲) کودکان در اولویت انجام کمک های اولیه هستند (۳) مصدومینی که از سن بالاتری نسبت به سایر مصدومین برخوردارند (۴) مصدومینی که آسیب آنها بسیار شدید است نظیر سوختگی ها یا زخم های وسیع ✓</p>	<p>۱۳- میزان کارایی روغن های معمولی موتور چند کیلومتر می باشد ؟</p> <p>(۱) در حدود ۸ تا ۱۰ هزار کیلومتر ✓ (۲) در حدود ۸۰ تا ۱۰۰ هزار کیلومتر (۳) در حدود ۲ هزار کیلومتر (۴) هزار کیلومتر</p>

آزمون شماره ۱
نمونه سوالات آزمون آیین نامه اصلی با جواب

<p>۱۶- کدام یک از موارد زیر جزو رفتار ناهنجار اجتماعی و ناپسند نمی باشد ؟</p> <p>(۱) نصب بوق های گوش خراش (۲) رانندگی با سرعت مجاز ✓ (۳) نصب سیستم های صوتی پر قدرت (۴) استفاده از لامپ های غیر مجاز</p>	<p>۱۵- اگر خودرویی با نور بالا از روبرو به شما نزدیک شود چه باید بکنید ؟</p> <p>(۱) باید سرعت را افزایش داده و سریع از کنار آن عبور کرد (۲) باید با تبدیل نور پایین به نور بالا و بوق ممتد او را متوجه نمود که نور پایین استفاده کند (۳) باید سرعت را کاهش داده و به سمت چپ جاده نگاه کرد (۴) سرعت را کاهش داده و به سمت راست جاده نگاه کرده و با کنار چشم حرکت خودروی مقابل را تحت نظر داشت ✓</p>
<p>۱۸- از زمانی که راننده تشخیص می دهد نیاز به توقف دارد تا لحظه به کار گرفتن ترمز های چه نام دارد ؟</p> <p>(۱) مسافت توقف (۲) مسافت ترمز (۳) زمان واکنش ✓ (۴) زمان ترمز</p>	<p>۱۷- به منظور جلوگیری از آسیب رسی به بخش های موتور تسمه تایم پس از طی چه مسافتی بایستی تعویض شود ؟</p> <p>(۱) بین ۱۰ تا ۱۵ هزار کیلومتر (۲) بین ۶۰ تا ۹۰ هزار کیلومتر ✓ (۳) با هر بار تعویض روغن (۴) هر ۵ هزار کیلومتر</p>
<p>۲۰- در کدامیک از موارد زیر بوق زدن مجاز است ؟</p> <p>(۱) صدا زدن افراد (۲) سبقت مجاز در روز ✓ (۳) اعلام حضور و باز کردن در منزل (۴) خداحافظی</p>	<p>۱۹- توقف و یا ایستادن در کدامیک از محل های زیر مجاز است ؟</p> <p>(۱) گذرگاه پیاده (۲) پیاده رو (۳) کنار وسایل نقلیه ای که خود متوقف می باشد (۴) محدوده پارک آزاد ✓</p>

آزمون شماره ۱
نمونه سوالات آزمون آیین نامه اصلی با جواب

۲۲- نام این تابلو چیست ؟



- (۱) عبور دوچرخه ممنوع
- (۲) عبور موتور گازی ممنوع
- (۳) فقط عبور دوچرخه
- (۴) عبور دوچرخه سوار ✓

۲۱- این تابلو بیانگر چیست ؟



- (۱) رعایت حق تقدم
- (۲) به تابلوی رعایت حق تقدم نزدیک می شوید ✓
- (۳) به تابلو ایست نزدیک می شوید
- (۴) تقاطع فرعی و اصلی

۲۴- نام این تابلو چیست ؟



- (۱) حداقل سرعت ۶۰ کیلومتر
- (۲) رعایت فاصله کم تر از ۶۰ متر ممنوع
- (۳) سرعت بیش از ۶۰ کیلومتر بر ساعت ممنوع
- (۴) سرعت توصیه شده ✓

۲۳- نام این تابلو چیست ؟



- (۱) آزاد راه
- (۲) پایان آزاد راه ✓
- (۳) پل متحرک
- (۴) شانه خطرناک

آزمون شماره ۱
نمونه سوالات آزمون آیین نامه اصلی با جواب

۲۶- نام این تابلو چیست ؟



- ۱) چاله ✓
- ۲) راه لغزنده
- ۳) دست انداز
- ۴) شانه خطرناک

۲۵- کدام تابلو مربوط به پارکینگ می باشد ؟



۲۸- این تابلو بیان گر چیست ؟



- ۱) دور زدن ممنوع ✓
- ۲) گردش به چپ ممنوع
- ۳) پیچ های پی در پی
- ۴) پیچ به چپ

۲۷- نام این تابلو چیست ؟



- ۱) پیچ های پی در پی
- ۲) شانه خطرناک
- ۳) راه لغزنده ✓
- ۴) راه از راست باریک می شود

آزمون شماره ۱
نمونه سوالات آزمون آیین نامه اصلی با جواب

۳۰- نام این تابلو چیست ؟



- ۱) پرتاب سنگ ✓
- ۲) ریزش سنگ
- ۳) شانه خطرناک
- ۴) دست انداز

۲۹- این تابلو بیان گر چیست ؟



- ۱) ورود ممنوع
- ۲) رعایت حق تقدم
- ۳) خیابان اصلی ✓
- ۴) عبور کلیه وسایل نقلیه ممنوع

آزمون شماره ۲
نمونه سوالات آزمون آیین نامه اصلی با جواب

<p>۲- در محل توقف (پارک) کنار خیابان حق تقدم با وسیله نقلیه ای است که ؟ (۱) وابسته به سازمان های دولتی است (۲) مستقیم و در مسیر مجاز حرکت می نماید (۳) ضمن حرکت به عقب مشغول توقف یا پارک کردن ✓ است (۴) ابعاد بزرگ تری دارد</p>	<p>۱- در راه های مسطح که دو طرف راه منتهی به کوه و پرتگاه می باشد حق تقدم عبور با وسیله نقلیه ای است که ؟ (۱) در طرف کوه قرار دارد (۲) سرعت بالاتری دارد (۳) در طرف پرتگاه قرار دارد ✓ (۴) سرعت کم تری دارد</p>
<p>۴- چند متر بعد از تونل و پل ها سبقت آزاد است ؟ (۱) ۵۰ متری (۲) سبقت از انتهای آنها مجاز است (۳) ۱۰۰ متری ✓ (۴) ۷۰ متری</p>	<p>۳- در چند متری ورودی تونل ها سبقت گرفتن ممنوع است ؟ (۱) ۱۸۰ متری (۲) ۱۵۰ متری (۳) ۲۰۰ متری (۴) ۱۰۰ متری ✓</p>
<p>۶- حداکثر میزان سرعت مجاز در بزرگراه های بیرون شهری برای سواری چند کیلومتر در ساعت است ؟ (۱) ۸۵ کیلومتر در ساعت (۲) ۹۵ کیلومتر در ساعت (۳) ۱۲۵ کیلومتر در ساعت (۴) ۱۱۰ کیلومتر در ساعت ✓</p>	<p>۵- در بزرگراه های بیرون شهر ، حداکثر سرعت مجاز برای انواع وانت بار چند کیلومتر در ساعت است ؟ (۱) ۱۲۰ (۲) ۱۲۵ (۳) ۱۱۰ ✓ (۴) ۱۳۰</p>
<p>۸- تا چه فاصله ای از تقاطع ها و میداین توقف وسایل نقلیه ممنوع است ؟ (۱) ۲۰ متری (۲) ۱۵ متری ✓ (۳) ۳۰ متری (۴) ۲۵ متری</p>	<p>۷- استفاده از چراغ های رنگا رنگ و چشمک زن در وسایل نقلیه ؟ (۱) ممنوع است مگر با اخذ مجوز از مراجع ذیصلاح ✓ (۲) مجاز است (۳) محدودیتی ندارد (۴) در معابر شهری ممنوع نیست</p>

آزمون شماره ۲
نمونه سوالات آزمون آیین نامه اصلی با جواب

<p>۱۰- کدام یک از موارد زیر در خصوص عبور از روی خط آهن صحیح می باشد ؟ (۱) در حین عبور از خط آهن بایستی دنده خودرو را از دنده سبک به دنده سنگین تغییر داد (۲) در حین عبور از خط آهن می بایستی از تعویض دنده خودداری نمود ✓ (۳) در حین عبور از خط آهن دنده خودرو را از دنده سنگین به دنده سبک تغییر داد (۴) قبل از رسیدن به خط آهن باید سرعت را افزایش داده و با سرعت از خط آهن عبور نمود</p>	<p>۹- کدامیک از پاسخ های زیر در خصوص نقص در سیستم جلو بندی و یا شکستگی آن صحیح است ؟ (۱) تایرهای عقب خودرو ساییده می شود (۲) مصرف سوخت افزایش می یابد ✓ (۳) هدایت و کنترل خودرو از دست راننده خارج میگرد (۴) رادیاتور خودرو جوش می آورد</p>
<p>۱۲- در گذرگاه پیاده که فاقد چراغ راهنمایی و رانندگی است حق تقدم عبور با کدام است ؟ (۱) وسیله نقلیه در حال حرکت (۲) پیادگان ✓ (۳) وسیله نقلیه در حال گردش (۴) وسیله نقلیه که متوقف شده است</p>	<p>۱۱- هرگاه دارنده گواهینامه رانندگی یکی از شرایط پزشکی مربوط برای رانندگی را از دست بدهد بایستی ؟ (۱) با همان وضعیت به رانندگی ادامه دهد ✓ (۲) ظرف مدت یک ماه به راهنمایی و رانندگی مراجعه نماید (۳) به آن توجهی ننماید (۴) به درمانگاه مراجعه نماید</p>
<p>۱۴- کدام مورد زیر از مصادیق حقوق شهروندی در حین رانندگی است ؟ (۱) حرکت با سرعت غیر مجاز (۲) حرکت غیر ایمن (۳) حرکت مارپیچ در رانندگی ✓ (۴) حرکت بین خطوط ترافیک</p>	<p>۱۳- یکی از علت های نقض قوانین و مقررات و بی احترامی به سایر رانندگان و انجام اقدامات حادثه ساز توسط راننده کدام مورد می باشد ؟ (۱) داشتن خودروی ایمنی (۲) وقت شناس نبودن و عدم برنامه ریزی مناسب برای رسیدن به مقصد (۳) از مهارت و تجربه کافی در رانندگی برخوردار است (۴) راننده در زمان خلوتی معابر میتواند قوانین و مقررات را نقض و اقدامات حادثه ساز انجام دهد ✓</p>

آزمون شماره ۲
نمونه سوالات آزمون آیین نامه اصلی با جواب

<p>۱۶- برای راه اندازی خودرو راننده در چه مرحله ای بایستی کمربند ایمنی را ببندد ؟ (۱) در حین حرکت (۲) پس از روشن کردن موتور خودرو ✓ (۳) قبل از روشن کردن موتور خودرو (۴) نیازی به بستن کمربند ایمنی نمی باشد</p>	<p>۱۵- یکی از راه های کاهش مصرف سوخت کدام است ؟ (۱) حرکت با سرعت زیاد (۲) عدم تنظیم موتور (۳) تنظیم باد تایرها ✓ (۴) باز کردن ترموستات خودرو در تابستان</p>
<p>۱۸- یکی از مزیت های ترمز های ضد قفل ABS عبارت است از ؟ (۱) در هنگام ترمز گیری از قفل شدن درهای خودرو جلوگیری می کند (۲) در هنگام ترمز گیری مسافت توقف خودرو را افزایش می دهد (۳) در هنگام ترمز گیری موجب سر خوردن وسیله نقلیه می شود (۴) در هنگام ترمز گیری امکان فرمان دادن و هدایت ✓ بهرتر خودرو را می دهد</p>	<p>۱۷- کدام قطعه از ورود گرد و غبار به داخل موتور جلوگیری می کند ؟ (۱) انژکتور (۲) صافی بنزین (۳) صافی هوا ✓ (۴) پروانه</p>
<p>۲۰- در هنگام پارک در سربالایی و در راه بدون بدون جدول ، فرمان وسیله نقلیه باید به کدام سمت چرخانده شود ؟ (۱) سمت چپ (۲) تفاوتی ندارد (۳) سمت راست ✓ (۴) مخالف عقربه ساعت</p>	<p>۱۹- تا چند متری ورودی و خروجی مراکز فوریت های پزشکی ایستادن وسایل نقلیه ممنوع است ؟ (۱) ۱۵۰ متری (۲) ۲۰ متری (۳) ۱۵ متری ✓ (۴) محدودیتی ندارد</p>

آزمون شماره ۲
نمونه سوالات آزمون آیین نامه اصلی با جواب

۲۱- این تابلو بیان گر چیست ؟



- (۱) جهت عبور در میدان
- (۲) رعایت حق تقدم
- (۳) به تابلوی ایست نزدیک می شوید ✓
- (۴) به میدان نزدیک می شوید

۲۲- نام این تابلو چیست ؟




- (۱) راه از چپ باریک می شود ✓
- (۲) پیچ به راست
- (۳) جاده باریک می شود
- (۴) خطر

۲۳- این تابلو بیان گر چیست ؟



- (۱) شروع محل پیاده روی
- (۲) شیب سربالایی ۱۰ درصد
- (۳) زیر گذر یا رو گذر ✓
- (۴) گذرگاه پیاده

۲۴- نام این تابلو چیست ؟



- (۱) تونل
- (۲) ورود به شهر
- (۳) پایان شهر
- (۴) پایان تونل ✓

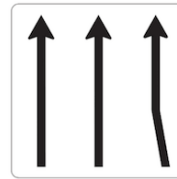
آزمون شماره ۲
نمونه سوالات آزمون آیین نامه اصلی با جواب

۲۶- این تابلو بیان گر چیست ؟



- ۱) ایست ✓
- ۲) ایستادن ممنوع
- ۳) عبور وسایل نقلیه موتور ممنوع
- ۴) سبقت ممنوع

۲۵- کدام تابلو بیان گر "خط عبور برای گریز" می باشد ؟



۲۸- این تابلو بیان گر چیست ؟



- ۱) عبور کلیه وسایل نقلیه ممنوع
- ۲) حق تقدم عبور با شما
- ۳) حق تقدم عبور با وسیله نقلیه مقابل است
- ۴) سبقت ممنوع ✓

۲۷- این تابلو بیان گر چیست ؟



- ۱) پیچ به چپ
- ۲) پیچ به راست
- ۳) گردش به چپ ممنوع
- ۴) گردش به راست ممنوع ✓

۲۹- نام این تابلو چیست ؟



- (۱) تونل
- (۲) تقاطع ✓
- (۳) بن بست
- (۴) پایان آزاد راه

۳۰- نام این تابلو چیست ؟



- (۱) ریزش سنگ ✓
- (۲) پرتاب سنگ
- (۳) راه لغزنده
- (۴) جاده باریک می شود

آزمون شماره ۳
نمونه سوالات آزمون آیین نامه اصلی با جواب

<p>۲- در راه هایی که مسیر حرکت وسایل نقلیه به علت وجود موانع ثابت اعم از وسایل نقلیه پارک شده ، مصالح ساختمانی ، اشیا ، عملیات عمرانی ، حفاری و خرابی راه بسته و یا برای عبور از مسیر مجاز کافی نباشد ، حق تقدم عبور با وسیله ای است که ؟</p> <p>(۱) به مسیر راست گردش می کند</p> <p>(۲) مسیر عبور آنها باز یا سهم عبور بیشتری ✓</p> <p>را دارا می باشد</p> <p>(۳) به طور مستقیم و در سمت و مسیر مجاز حرکت می کند</p> <p>(۴) مسیر عبور آنها بسته یا سهم کم تری را دارا می باشد</p>	<p>۱- حرکت کردن از روی خطوط هاشور در حاشیه راه ها که معمولا کناره اتویان ها ، آزادراه ها ، بزرگراه ها و تونل ها کشیده می شوند ؟</p> <p>(۱) مجاز است</p> <p>(۲) در شب ها مجاز است</p> <p>(۳) در صورت ترافیک سنگین مجاز است</p> <p>(۴) ممنوع است ✓</p>
<p>۴- رانندگان کلیه وسایل نقلیه موظفند از کدام خط عبور راه حرکت نمایند ؟</p> <p>(۱) خط وسط</p> <p>(۲) سمت راست ✓</p> <p>(۳) سمت چپ</p> <p>(۴) خط زیگزاگ</p>	<p>۳- سبقت از طرف راست وسیله نقلیه ای که در حال گردش به چپ می باشد ؟</p> <p>(۱) فقط در معابر شریانی درجه دو ممنوع است</p> <p>(۲) ممنوع است</p> <p>(۳) در هنگام روز مجاز است</p> <p>(۴) مجاز است ✓</p>
<p>۶- حداکثر میزان سرعت مجاز در بزرگراه های بیرون شهری برای سواری چند کیلومتر در ساعت است ؟</p> <p>(۱) ۱۰۰ کیلومتر در ساعت</p> <p>(۲) ۱۱۰ کیلومتر در ساعت ✓</p> <p>(۳) ۹۵ کیلومتر در ساعت</p> <p>(۴) ۸۵ کیلومتر در ساعت</p>	<p>۵- کدامیک از موارد زیر توسط راننده مجاز است ؟</p> <p>(۱) ریختن زباله از داخل خودرو به بیرون</p> <p>(۲) حرکات نمایشی و دور زدن در جا</p> <p>(۳) پرتاب آب دهان به بیرون</p> <p>(۴) بستن دو عدد چراغ ویژه مه با نور زرد ✓</p> <p>در دو طرف قسمت جلوی خودرو</p>

آزمون شماره ۳
نمونه سوالات آزمون آیین نامه اصلی با جواب

<p>۸- دور زدن تا چه فاصله ای از پیچ ها که میدان دید کافی ندارند ممنوع است ؟</p> <p>(۱) ۲۵۰ متری</p> <p>(۲) ۲۰۰ متری</p> <p>(۳) ۳۰۰ متری</p> <p>(۴) ۱۵۰ متری ✓</p>	<p>۷- کدام یک از موارد زیر صحیح می باشد ؟</p> <p>(۱) باز کردن درهای وسیله نقلیه پیش از توقف کامل مجاز نیست ✓</p> <p>(۲) عبور وسایل نقلیه از پیاده رو ها مجاز است</p> <p>(۳) اجازه رانندگی به شخص فاقد گواهینامه مجاز است</p> <p>(۴) توقف در ۱۰ متری ورودی بیمارستان ها مجاز است</p>
<p>۱۰- برای گردش به چپ در راه های بیرون شهر که منحصر به دو خط عبور رفت و برگشت بوده و مانع فیزیکی وسط جاده نداشته باشد ، رانندگان موظفند وسیله نقلیه را ؟</p> <p>(۱) در وسط راه متوقف و با علامت دادن به سایرین گردش نمایند</p> <p>(۲) راهنمای سمت چپ را روشن و گردش نمایند</p> <p>(۳) در شانه راه و یا منتهی الیه سمت راست راه ✓</p> <p>متوقف و سپس با رعایت حق تقدم گردش نمایند</p> <p>(۴) در وسط راه یا زدن راهنما به سمت چپ گردش نمایند</p>	<p>۹- استفاده از لاستیک های فرسوده و غیر استاندارد در وسایل نقلیه چگونه است ؟</p> <p>(۱) مجاز است</p> <p>(۲) ممنوع است ✓</p> <p>(۳) در صورت ضرورت بلامانع است</p> <p>(۴) در تابستان بلامانع است</p>
<p>۱۲- حرکت در پوشش وسایل نقلیه امدادی در حال ماموریت برای سایر وسایل نقلیه چگونه است ؟</p> <p>(۱) مجاز است</p> <p>(۲) محدودیتی ندارد</p> <p>(۳) در صورت رعایت ایمنی مجاز است</p> <p>(۴) ممنوع است ✓</p>	<p>۱۱- ترمز دستی به نام ترمز و ترمز پایی به نام ترمز یا ترمز سرویس شناخته می شود.</p> <p>(۱) اولیه - ثانویه</p> <p>(۲) ثانویه - اولیه ✓</p> <p>(۳) قدرتی - سرعتی</p> <p>(۴) سرعتی - قدرتی</p>

آزمون شماره ۳
نمونه سوالات آزمون آیین نامه اصلی با جواب

<p>۱۴- کدامیک از موارد زیر جان فرد را به خطر می اندازد ؟</p> <p>(۱) فقدان تنفس ✓</p> <p>(۲) بالا بودن درجه حرارت بدن</p> <p>(۳) داشتن ضربان قلب</p> <p>(۴) خراشیدگی پوست</p>	<p>۱۳- در صورتی که خودرو جوش آورده چه اقدامی بایستی انجام داد ؟</p> <p>(۱) در کنار راه متوقف و در رادیاتور را باز کرده و داخل آن آب اضافه نماییم</p> <p>(۲) به مسیر خود ادامه ادامه و خودرو را به اولین تعمیرگاه انتقال دهیم</p> <p>(۳) در کنار راه توقف و به هیچ وجه در رادیاتور را باز نکنید و با احتیاط مقداری آب بر روی رادیاتور بریزید ✓</p> <p>(۴) خودرو را در حین حرکت خاموش تا رادیاتور خنک شود</p>
<p>۱۶- کدام مورد نمونه ای از رفتار پرخطر هنگام رانندگی است ؟</p> <p>(۱) حرکت بین خطوط</p> <p>(۲) توجه به جلو</p> <p>(۳) رعایت فاصله طولی</p> <p>(۴) استفاده از تلفن همراه ✓</p>	<p>۱۵- رانندگی هر فرد نشان دهنده چه چیزی میباشد؟</p> <p>(۱) میزان سواد</p> <p>(۲) شخصیت و درک اجتماعی ✓</p> <p>(۳) میزان ثروت</p> <p>(۴) معروف بودن</p>
<p>۱۸- راه هایی که مسیر حرکت وسایل نقلیه به علت وجود موانع ثابت مانند وسایل نقلیه پارک شده ، مصالح ساختمانی بسته یا برای عبور از مسیر مجاز کافی نباشد حق تقدم عبور با کیست ؟</p> <p>(۱) وسایل نقلیه ای که دارای عرض بیشتری میباشدند</p> <p>(۲) وسایل نقلیه ای که مسیر عبور آنها باز یا سهم بیشتری را دارا باشند ✓</p> <p>(۳) وسایل نقلیه ای که سرعت بیشتری دارند</p> <p>(۴) نیازی به رعایت حق تقدم عبور نبوده و هر وسیله ای که سریع تر عبور کند</p>	<p>۱۷- کدام مورد زیر منظور و مفهوم رانندگی با سرعت مطمئنه است ؟</p> <p>(۱) رانندگی بر اساس شرایط محیطی و جاده ای ✓</p> <p>(۲) رانندگی با سرعت های بالا</p> <p>(۳) رانندگی با سرعت های پایین</p> <p>(۴) رانندگی در ساعات روز</p>

آزمون شماره ۳
نمونه سوالات آزمون آیین نامه اصلی با جواب

<p>۲۰- خستگی و خواب آلودگی راننده چه تاثیری بر رانندگی وی دارد ؟ (۱) افزایش توجه به رانندگی (۲) افزایش سرعت تصمیم گیری در هنگام بروز خطر (۳) شناسایی صحیح وضعیت رانندگی سایر رانندگان (۴) کاهش سطح هوشیاری و سرعت واکنش فرد ✓</p>	<p>۱۹- در کدام مورد زیر سبقت گرفتن ممنوع است ؟ (۱) ۲۰۰ متری سربالایی (۲) ۲۰۰ متری پیچ ها (۳) بر روی خط ممتد ✓ (۴) ۲۰۰ متری تونل ها</p>
<p>۲۲- این تابلو بیان گر چیست ؟</p>  <p>(۱) سربالایی خطرناک ✓ (۲) شیب سربالایی ۱۰ درصد (۳) شیب سرازیری ۱۰ درصد (۴) خطر سقوط در آب</p>	<p>۲۱- این تابلو بیان گر چیست ؟</p>  <p>(۱) تقاطع راه آهن با راه بند (۲) جهت وزش باد شدید از چپ (۳) جهت وزش باد شدید از راست ✓ (۴) تقاطع راه آهن بدون راه بند</p>
<p>۲۴- کدامیک از تابلوهای زیر "ورود به شهر" میباشد؟</p>     <p>✓</p>	<p>۲۳- نام این تابلو چیست ؟</p>  <p>(۱) تقاطع راه آهن با راه بند (۲) خطر سقوط در آب (۳) راه لغزنده (۴) پل مترک ✓</p>

آزمون شماره ۳
نمونه سوالات آزمون آیین نامه اصلی با جواب

۲۶- این تابلو بیان گر چیست ؟



- (۱) بسته بودن یکی از خطوط عبور
- (۲) بن بست
- (۳) سمت راست بن بست ✓
- (۴) خط عبور برای گریز

۲۵- نام کدام تابلو "راهنمای مسیر" می باشد ؟



۲۸- این تابلو بیان گر چیست ؟



- (۱) عبور با عرض بیش از ۲ متر ممنوع ✓
- (۲) عبور با بار بیش از ۲ تن بر هر محور ممنوع
- (۳) عبور وسایل نقلیه با وزن بیش از ۲ تن ممنوع
- (۴) عبور با ارتفاع بیش از ۲ متر ممنوع

۲۷- این تابلو بیانگر چیست ؟



- (۱) ایستادن ممنوع
- (۲) محل پارک کردن
- (۳) ورود ممنوع
- (۴) ایست ✓

۲۹- این تابلو بیان گر چیست ؟



- (۱) رعایت فاصله بیشتر از ۷۰ متر ممنوع
- (۲) رعایت فاصله کم تر از ۷۰ متر ممنوع ✓
- (۳) سرعت بیش از ۷۰ کیلومتر بر ساعت ممنوع
- (۴) سرعت کم تر از ۷۰ کیلومتر بر ساعت ممنوع

۳۰- این تابلو بیان گر چیست ؟






- (۱) حق تقدم عبور با تاکسی
- (۲) حق تقدم عبور با شما ✓
- (۳) راه دو طرفه
- (۴) حق تقدم عبور با وسیله نقلیه مقابل

آزمون شماره ۴
نمونه سوالات آزمون آیین نامه اصلی با جواب

<p>۲- در تقاطع هم عرض اگر دو وسیله نقلیه ای که روبروی یکدیگر در حرکتند بخواهند باهم وارد خیابان مجاور واحدی شوند حق تقدم عبور با وسیله نقلیه ای است که ؟</p> <p>(۱) به سمت راست گردش می کند ✓ (۲) به سمت چپ گردش می کند (۳) وابسته به سازمان های دولتی است (۴) ابعاد بزرگ تری دارد</p>	<p>۱- در سه راه ها حق تقدم عبور با وسیله نقلیه ای است که ؟</p> <p>(۱) سریع تر از وسیله نقلیه دیگر حرکت می کند (۲) به چپ گردش می کند (۳) به راست گردش می کند (۴) به طور مستقیم و در سمت و مسیر مجاز حرکت می کند ✓</p>
<p>۴- در چند متری ورودی تونل ها ، سبقت گرفتن ممنوع است ؟</p> <p>(۱) ۱۲۰ متری (۲) ۱۵۰ متری (۳) ۱۰۰ متری ✓ (۴) ۲۰۰ متری</p>	<p>۳- علائم اخباری برای گرفتن سبقت در روز کدام مورد است ؟</p> <p>(۱) تعویض نور چراغ بالا و پایین (۲) بوق کوتاه و چراغ راهنما ✓ (۳) اشاره با دست (۴) بوق مکرر و ممتد</p>
<p>۶- حداکثر سرعت در میدان ها چند کیلومتر در ساعت است ؟</p> <p>(۱) ۷۰ کیلومتر در ساعت (۲) ۵۰ کیلومتر در ساعت (۳) ۳۰ کیلومتر در ساعت ✓ (۴) ۶۰ کیلومتر در ساعت</p>	<p>۵- میزان سرعت مجاز در آزاد راه ها و بزرگراه ها چگونه تعیین می شود؟</p> <p>(۱) بر اساس فصول سال (۲) بر اساس میزان سرعت خودرو (۳) بر اساس مهارت راننده (۴) بر اساس تابلوهای نصب شده ✓</p>
<p>۸- کدامیک از موارد زیر در خصوص تبدیل نور بالا به پایین اشتباه است ؟</p> <p>(۱) زمانی که فاصله خودرویی که از روبرو به شما نزدیک میشود ۱۵۰ متر یا کمتر باشند نور بالا را به نور پایین تبدیل کنید (۲) زمانی که فاصله شما با خودرویی که در جلوی شما در حرکت است ۱۵۰ متر یا کمتر است</p>	<p>۷- در کدام موارد زیر توقف مجاز است ؟</p> <p>(۱) روی پل (۲) درون تونل ها (۳) معابر در ارتفاع (۴) ۲۰ متری میادین ✓</p>

آزمون شماره ۴
نمونه سوالات آزمون آیین نامه اصلی با جواب

<p>۳) زمانی که خودرویی از روبرو به شما نزدیک میشود نور بالا را به نور پایین تبدیل کنید</p> <p>۴) زمانی که خودرویی در پشت سر شما حرکت می کند نور بالا را به نور پایین تبدیل کنید</p> <p>✓</p>	<p>۹- دور زدن از چه فاصله ای از تونل ها که دید کافی و ایمنی لازم را ندارد ممنوع است ؟</p> <p>(۱) ۲۵۰ متری</p> <p>(۲) ۱۵۰ متری ✓</p> <p>(۳) ۲۰۰ متری</p> <p>(۴) ۳۰۰ متری</p>
<p>۱۱- نام این تابلو چیست ؟</p>  <p>(۱) ورود ممنوع</p> <p>(۲) ورود از هر دو طرف ممنوع ✓</p> <p>(۳) راه باز است</p> <p>(۴) عبور ممنوع</p>	<p>۱۰- تابلوهای منع کننده با چه رنگی نشان داده می شوند ؟</p> <p>(۱) زرد فسفری</p> <p>(۲) قهوه ای تیره</p> <p>(۳) نارنجی</p> <p>(۴) قرمز ✓</p>
<p>۱۳- نام این تابلو چیست ؟</p>  <p>(۱) استراحتگاه</p> <p>(۲) جایگاه سوخت</p> <p>(۳) تعمیرگاه ✓</p> <p>(۴) پست امدادی</p>	<p>۱۲- نام این تابلو چیست ؟</p>  <p>(۱) عبور عابر پیاده</p> <p>(۲) گذرگاه عابر پیاده</p> <p>(۳) عبور اطفال ✓</p> <p>(۴) عبور پیادگان</p>

۱۴- نام این تابلو چیست ؟



- (۱) ورود به شهر
- (۲) ابتدای منطقه مسکونی ✓
- (۳) ابتدای شهر
- (۴) پایان شهر

۱۵- نام این تابلو چیست ؟



- (۱) پارکینگ
- (۲) پارک سوار
- (۳) محدوده توقف ممنوع در
- طول شبانه روز
- (۴) محدوده پارک آزاد ✓

۱۶- این تابلو بیان گر چیست ؟



- (۱) عابر پیاده
- (۲) عبور عابر پیاده
- (۳) گذرگاه
- (۴) عبور پیاده ممنوع ✓

۱۷- این تابلو بیان گر چیست ؟



- (۱) حق تقدم عبور با شما
- (۲) حق تقدم عبور با وسیله نقلیه مقابل ✓
- (۳) راه سمت چپ مسدود است
- (۴) خیابان دو طرفه

۱۹- نام این تابلو چیست ؟



- (۱) پیچ به راست
- (۲) پیچ به چپ ✓
- (۳) گردش به راست ممنوع
- (۴) گردش به چپ ممنوع

۱۸- این تابلو بیانگر چیست ؟



- (۱) پایان سبقت ممنوع
- (۲) توقف ممنوع
- (۳) پایان تمام محدودیت ها ✓
- (۴) تقاطع با راه آهن

۲۱- کدام گزینه در مورد ضد یخ صحیح می باشد ؟

(۱) بهتر است کل مخزن رادیاتور به جای آب از ضدی
پر شود

(۲) عدم استفاده از ضد یخ در تابستان می تواند منجر
به جوش آوردن زودتر موتور شود ✓

(۳) ضدیخ در جلوگیری از زنگ زدگی رادیاتور و قطعات
سیستم خنک کاری موثر نیست

(۴) مایع ضد یخ از یخ زدگی آب در سرما جلوگیری
نمیکند

۲۰- نام این تابلو چیست ؟



- (۱) ورود ممنوع ✓
- (۲) راه مسدود است
- (۳) ورود از هر دو طرف ممنوع
- (۴) توقف ممنوع

آزمون شماره ۴
نمونه سوالات آزمون آیین نامه اصلی با جواب

<p>۲۳- سطح روغن موتور را با چه وسیله ای میتوان کنترل نمود ؟</p> <p>(۱) سیم روغن (گیج روغن) ✓ (۲) در مخزن روغن (۳) فیلتر روغن (۴) پمپ روغن</p>	<p>۲۲- در هنگام افزایش دمای موتور برای خنک شدن سریع موتور چه اقدامی انجام می دهید ؟</p> <p>(۱) آب بر روی بلوک موتور می ریزیم (۲) به طور متناوب ولی با احتیاط آب را بر روی موتور می ریزیم (۳) با احتیاط فقط آب تصفیه شده بر روی بلوک موتور می ریزیم (۴) با احتیاط مقداری آب بر روی رادیاتور میریزیم ✓</p>
<p>۲۵- جمله "دیر رسیدن بهتر از هرگز نرسیدن است" چه مفهومی را می رساند ؟</p> <p>(۱) پرهیز از عجله و شتاب در رانندگی ✓ (۲) رعایت کردن قوانین مربوط به پارک (۳) عدم توجه به قوانین و مقررات (۴) با سرعت بالا حرکت کردن</p>	<p>۲۴- کدامیک از موارد زیر در خصوص ایمن کردن صحنه حادثه می باشد ؟</p> <p>(۱) پارک خودرو در فاصله مناسب - کشیدن چند نفس عمیق و آرام (۲) مطمئن شدن از اینکه خطری شما را تهدید نمی کند - پارک خودرو در فاصله مناسب - استفاده از تابلوی اعلام خطر ✓ (۳) استفاده از تابلو اعلام خطر - گرفتن شرح و حال از مصدومین - کشیدن چند نفس آرام و عمیق (۴) پارک خودرو در نزدیکی صحنه تصادف - بررسی وضعیت مصدومین - دور کردن مصدوم از صحنه حادثه</p>
<p>۲۷- در کدامیک از سطوح زیر مسافت توقف افزایش می یابد ؟</p> <p>(۱) آسفالت با شرایط مطلوب ولی خشک (۲) در جاده های سنگلاخ (۳) آسفالت با شرایط نامطلوب و آغسته به قیر ✓ (۴) آسفالت زیر</p>	<p>۲۶- کدام مورد نمونه ای از رفتار پر خطر هنگام رانندگی است ؟</p> <p>(۱) حرکت بین خطوط (۲) استفاده از تلفن همراه ✓ (۳) توجه به جلو (۴) رعایت فاصله طولی</p>

نمونه سوالات آزمون آیین نامه اصلی با جواب

<p>۲۸- کدامیک از موارد زیر در حین رانندگی مجاز است ؟</p> <p>(۱) استعمال دخانیات (۲) استفاده از تلفن همراه (۳) عدم تمرکز (۴) توجه کامل به جلو ✓</p>	<p>۲۹- چه هنگام می توان از ترمز دستی استفاده نمود ؟</p> <p>(۱) هنگام توقف خودرو و یا در سرعت های بسیار پایین ✓ (۲) تنها در سرعت های بالا (۳) در هر شرایطی (۴) هنگام حرکت در سرازیری ها یا سربالایی ها</p>
	<p>۳۰- در صورت ترکیدن لاستیک جلوی اتومبیل باید ؟</p> <p>(۱) به شدت ترمز کرد (۲) فرمان را رها کرد (۳) فرمان را محکم گرفته و به آرامی توقف کرد ✓ (۴) ۱ و ۲ صحیح است</p>

آزمون شماره ۵
نمونه سوالات آزمون آیین نامه اصلی با جواب

۱- این تابلو بیانگر چیست ؟



- (۱) تراکم ترافیک
- (۲) میدان ✓
- (۳) پیچ به چپ
- (۴) جهت عبور در میدان

۲- نام این تابلو چیست ؟



- (۱) عبور پیاده ممنوع
- (۲) گذرگاه عابر پیاده ✓
- (۳) عبور عابر پیاده
- (۴) عبور اطفال

۳- این تابلو بیانگر چیست ؟



- (۱) سبقت ممنوع
- (۲) راه لغزنده
- (۳) توقف ممنوع
- (۴) عبور سواری ممنوع ✓

۴- این تابلو بیانگر چیست ؟



- (۱) جهت عبور در میدان
- (۲) عبور از هر دو سمت مجاز ✓
- (۳) عبور به چپ مجاز
- (۴) عبور از سمت راست مجاز

آزمون شماره ۵
نمونه سوالات آزمون آیین نامه اصلی با جواب

۵- نام این تابلو چیست ؟



- (۱) عبور حیوانات اهلی
- (۲) فقط عبور آهو
- (۳) عبور حیوانات وحشی ✓
- (۴) پایان منطقه مسکونی

۶- نام این تابلو چیست ؟



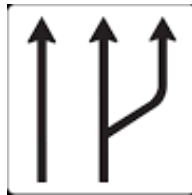

- (۱) شانه خطرناک ✓
- (۲) راه لغزنده
- (۳) پل متحرک
- (۴) برآمدگی

۷- نام این تابلو چیست ؟



- (۱) تقاطع با راه آهن
- (۲) ورود ممنوع
- (۳) توقف ممنوع
- (۴) تقاطع ✓

۸- کدام تابلو بیان گر (کاهش خطوط عبور)
میباشد؟




✓

۹- این تابلو بیان گر چیست ؟



- ۱) فقط عبور پیاده ✓
- ۲) گذرگاه پیاده
- ۳) عابر پیاده
- ۴) عبور عابر پیاده و همراه

۱۰- نام این تابلو چیست ؟



- ۱) نظارت با دوربین پلیس
- ۲) طول محدوده خطر ✓
- ۳) طول ممنوعیت با محدودیت پارکنیگ
- ۴) حاشیه نمای دو طرفه

۱۱- بیشترین نوع آلودگی وسایل نقلیه موتور کدام است ؟

- ۱) آلودگی دیداری
- ۲) آلودگی شنیداری
- ۳) آلودگی هوا ✓
- ۴) همه موارد

- ۱۲- فاصله مناسب از جدول هنگام پارک ؟
- ۱) نیم متر از جلو - ۱ متر از عقب - ۴۰ سانتی متر از جدول
 - ۲) ۱ متر از جلو - ۱ متر از عقب - ۴۵ سانتی متر از جدول ✓
 - ۳) ۱ متر از جلو - نیم متر از عقب - ۴۵ سانتی متر از جدول
 - ۴) ۱ متر از جلو - ۱ متر از عقب - ۴۰ سانتی متر از جدول

۱۳- موثرترین عضو بدن در رانندگی کدام است ؟

- ۱) پاها
- ۲) چشم ها ✓
- ۳) دست ها
- ۴) قلب

- ۱۴- به هنگام رانندگی در طول روز در شرایط مه آلود چه کار باید انجام دهید ؟
- ۱) از نور بالا استفاده کنید
 - ۲) از نور پایین استفاده کنید ✓
 - ۳) چراغ بغل را روشن کنید
 - ۴) چراغ راهنما را روشن کنید

آزمون شماره ۵
 نمونه سوالات آزمون آیین نامه اصلی با جواب

<p>۱۶- در شرایط یخبندان مسافت توقف چند برابر افزایش می یابد ؟</p> <p>(۱) ۲ برابر (۲) ۵ برابر (۳) ۱۰ برابر ✓ (۴) ۱۲ برابر</p>	<p>۱۵- تابلو های هشدار دهنده یا بیشتر به صورت با نوار حاشیه رنگ و زمینه رنگ می باشد .</p> <p>(۱) خطاری - مثلث - قرمز - سفید ✓ (۲) خطاری - مربع - قرمز - سفید (۳) اخباری - دایره - قرمز - آبی (۴) انتظامی - پنج ضلعی - قرمز - سفید</p>
<p>۱۸- عمر تسمه تایم بسته به نوع خودرو می تواند بین باشد ؟</p> <p>(۱) حدود ۵۰ تا ۱۰۰ هزار کیلومتر (۲) حدود ۴۰ تا ۷۰ هزار کیلومتر (۳) حدود ۶۰ تا ۹۰ هزار کیلومتر ✓ (۴) هیچکدام</p>	<p>۱۷- در زمان دیدن گیج روغن در چه حالت باید روغن بررسی شود ؟</p> <p>(۱) سطح روغن از علامت روی گیج بالاتر باشد (۲) سطح روغن از علامت روی گیج پایین تر باشد (۳) سطح روغن بین علامت گیج باشد (د) مورد الف و ب ✓</p>
<p>۲۰- وضعیت باد تایرها هرچند وقت یکبار باید کنترل شود ؟</p> <p>(۱) هر ماه یکبار (۲) هر سه ماه یکبار (۳) یکبار در هفته ✓ (۴) هر روز</p>	<p>۱۹- محل تاثیر ها هر تعویض نمود تا تمام آنها به طور یکسان مورد سایش قرار گیرند ؟</p> <p>(۱) هر ۵ هزار کیلومتر ✓ (۲) هر ۱۰ هزار کیلومتر (۳) هر ۱۵ هزار کیلومتر (۴) هر ۲۰ هزار کیلومتر</p>
<p>۲۲) فیلتر هوا توصیه می شود هرچند وقت یکبار تعویض گردد ؟</p> <p>(۱) هفته ای یکبار (۲) ماهی یکبار (۳) هر بار تعویض روغن ✓ (۴) هر ۱۰۰ هزار کیلومتر</p>	<p>۲۱- کدام مورد باعث ساییدگی نامتوازن یا ساییدگی بیش از حد تایرها می شود ؟</p> <p>(۱) عدم تنظیم فرمان (۲) عدم تنظیم چرخ ها (۳) عدم تنظیم ترمز ها (۴) همه موارد ✓</p>

آزمون شماره ۵
نمونه سوالات آزمون آیین نامه اصلی با جواب

<p>۲۴- در باتری های آبی میزان آب باتری چه موقع مورد بررسی قرار می گیرد ؟</p> <p>(۱) هر ۵ هزار کیلومتر (۲) هر ۱۰ هزار کیلومتر ✓ (۳) هر ۱۵ هزار کیلومتر (۴) هر ۲۰ هزار کیلومتر</p>	<p>۲۳- روغن جعبه دنده یا واسکازین هر چند کیلومتر نیاز به تعویض دارد ؟</p> <p>(۱) هر ۲۰ هزار کیلومتر (۲) هر ۳۰ هزار کیلومتر ✓ (۳) هر ۴۰ هزار کیلومتر (۴) هر ۵۰ هزار کیلومتر</p>
<p>۲۶- سطح آب مخزن توصیه می شود هر چند وقت یکبار کنترل شود ؟</p> <p>(۱) روزی یکبار (۲) هفته ای یکبار ✓ (۳) یکبار در ماه (۴) کنترل نیاز نیست</p>	<p>۲۵- این وسیله از ورود بخارهای بنزین به فضای آزاد جلوگیری می کند ؟</p> <p>(۱) کنیستر ✓ (۲) کاتالیس (۳) فیلتر بنزین (۴) فیلتر روغن</p>
<p>۲۸- جای تایرها هر چند کیلومتر باید تعویض شود؟</p> <p>(۱) ۲۰۰۰ (۲) ۳۰۰۰ (۳) ۴۰۰۰ (۴) ۵۰۰۰ ✓</p>	<p>۲۷- کنیستر هر چند وقت یکبار نیاز به تعویض دارد؟</p> <p>(۱) هر یکسال یک بار (۲) هر ماه یکبار (۳) هر هفته یکبار (۴) هر دو سال یکبار ✓</p>
<p>۳۰- کدام مورد موجب ساینده نامنتقارن چرخ ها می شود ؟</p> <p>(۱) تنظیم نبودن ترمز ها (۲) تنظیم نبودن فرمان (۳) تنظیم نبودن چرخ ها (۴) همه موارد ✓</p>	<p>۲۹- سیستم هدایت فرمان هر چند وقت یکبار باید کنترل شود ؟</p> <p>(۱) هر ماه یکبار (۲) هر سه ماه یکبار (۳) هر شش ماه یکبار ✓ (۴) هر سال یکبار</p>